

नमुना प्रश्नपत्रिका

इयत्ता – दुसरी

विषय – गणित

विद्यार्थ्यांचे नाव :

हजेरी क्र :

शाळेचे नाव :

तुकडी :

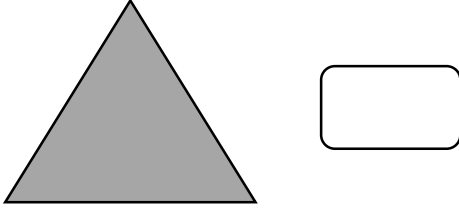
केंद्र : ता : जि :

दिनांक : / / २०२०

प्रश्न क्रमांक	१	२	३	४	५	लेखी	प्रात्य./ तोंडी	एकूण	शिक्षक स्वाक्षरी
प्राप्त गुण									
कमाल गुण	४	४	३	५	४	२०	१०	३०	

प्रत्येक उपप्रश्नास एक गुण आहे. सर्व प्रश्न सोडवावेत.

प्र. १ अ) पुढील आकृतीला कडा किती ते अंकात लिही.



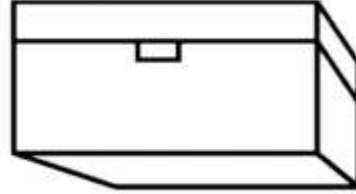
प्र. १ क) मोबाईलवर असणारी संख्या अक्षरात लिही.



प्र. २ अ) सर्वात लहान संख्येभोवती ○ कर.

४५ ५६ ३२ ७५

प्र. १ ब) पेटीचा तळाचा पृष्ठभाग रंगव.




प्र. १ ड) चित्रातील संख्येतील दशक ओळखून अंकात लिही.



प्र. २ ब) सर्वात मोठ्या संख्येभोवती ○ कर.

३६ ९६ ४९ ९९

प्र. २ क) ज्या वस्तूचे वजन जास्त आहे, त्या वस्तूला ○ कर.



प्र. ३ अ) नंतरचा महिना लिही.

श्रावण -

प्र. २ ड) तयार होणारी संख्या अंकात लिही.

$$४ \text{ दशक} + ५ \text{ एकक} = \boxed{}$$

प्र. ३ ब) खालील चौकोनात शंकू काढ.



प्र. ३ क) दिलेल्या संख्येतील लहान व मोठी संख्या ओळख व लिही.

संख्या	लहान संख्या	मोठी संख्या
६९ , ३९		

प्र. ४ अ) खालील संख्येतील दशक व एकक ओळखून लिही.

संख्या	दशक	एकक
६३	<input type="text"/>	<input type="text"/>

प्र. ४ ब) बेरीज कर.

द	ए
१	८
+ १	१

प्र. ४ क) बेरीज कर.

द	ए
१	७
+ १	२

प्र. ४ ड) वजाबाकी कर.

दशक	एकक
९	८
—	
४	०

प्र. ४ इ) वजाबाकी कर.

दशक	एकक
६	८
—	
३	४

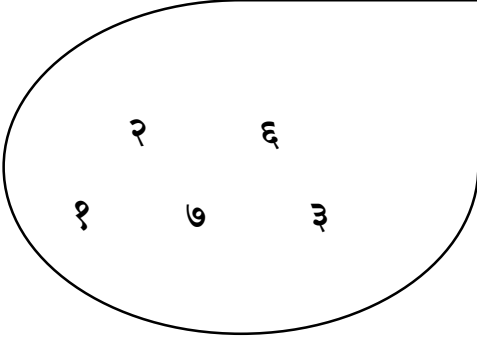
प्र. ५ अ) आधीचा व नंतरचा वार लिही.



प्र. ५ ब) पुढीलपैकी क्रमवाचक शब्द ओळख. योग्य पर्यायाला ○ कर.

- १) चार २) सातवा ३) पाच ४) दहा

प्र. ५ क) खालील चित्रातील कोणतेही दोन अंक घेऊन जास्तीत जास्त संख्या तयार कर व चौकटीत लिही.



□

प्र. ५ ड) रमेशच्या दुकानात ६५ सायकली होत्या . त्यांपैकी ३२ विकल्या गेल्या. आता त्याच्या दुकानात किती सायकली उरल्या ? गणित सोडव.

काय दिले आहे ?
काय विचारले आहे ?
काय करूया ?

द	ए

अ. क्र	प्रात्यक्षिक / तोंडी प्रश्न व त्या अनुषंगाने शिक्षकांसाठी सूचना	विद्यार्थी				
		अ	ब	क	ड	इ
१.	संख्याकार्ड देऊन संख्या वाचण्यास सांगावे.	२६	३९	४८	५९	८६
२.	दोन संख्यांमधली संख्या विचारावी.	१७, १९	३५, ३७	१९, २१	५४, ५६	६७, ६९
३.	दशक व एकक मांडणी करून बेरीज करण्यास सांगावे.	३४+७	२२+४	२५+१७	८१+५	२४+८
४.	दोन संख्याकार्ड देऊन लहान / मोठी संख्या विचारावी.	७८, ८१	५३, ६१	७३, ४२	१५, २९	४६, ६३
५.	दिलेल्या संख्येचा पाढा तयार कर व म्हण.	५	३	९	४	७
६.	वस्तूंच्या मदतीने वजाबाकी करून घेणे.	४४-१२	५५-२३	८५-१७	३४-११	९९-४४
७.	भौमितिक आकृत्या दाखवून ओळखण्यास सांगणे. (त्रिकोण , चौस वगैरे)	-	-	-	-	-
८.	ग्रेगरियन व सौर वर्षाचे महिने विचारणे.	-	-	-	-	-
९.	संख्येतील एकक व दशक सांगणे.	५५	३४	८८	११	७९
१०	संख्या लहान व मोठी ओळखणे.	४, १२	५५, २३	२५-१७	३४-५१	३९-४४



नवीन शैक्षणिक व्हिडिओंसाठी आमचे खालील युट्युब चॅनल्स सबस्क्राईब करा.

प्रविण डाकरे : www.youtube.com/c/TechAidGuruji

जयदिप डाकरे : www.youtube.com/c/Gurumaulee

