



श्री.जयदिप डाकरे सर श्री.प्रविण डाकरे सर



Subscribe

इयता - चौथी (28 जून) विषय - मराठी

Subscribe

शाळापूर्व तयारी - उपचारात्मक ब्रीज कोर्स (15 ते 30 जून)

मागील इयत्तेच्या अध्ययन निष्पत्तीवर आधारित अभ्यासक्रम समाविष्ट

प्र. ६. जोड्या जुळवा.

'अ' गट	'ब' गट
(१) वाहनांचा	(अ) झुबका
(२) द्राक्ष्यांचा	(आ) ढीग
(३) संत्र्यांचा	(इ) कळप
(४) हरणांचा	(ई) घोस
(५) फुलांचा	(उ) ताफा

टेस्ट
सोडवा

प्र. ७. वाचा, समजून घ्या व लिहा.

- | | |
|--|---------------------|
| (अ) चपात्यांची/भाकऱ्यांची - चवड | (उ) भाजीची - जुडी |
| (आ) पुस्तकांचा/वर्तमानपत्रांचा - गट्टा | (ऊ) केळ्यांचा - घड |
| (इ) धान्यांच्या पोत्यांची - थप्पी | (ए) माणसांचा - जमाव |
| (ई) धान्याची - रास | |

प्र. ८. रिकाम्या जागी योग्य शब्द भरा.

- (अ) खूप पाहुणे येणार म्हणून आईला भरपूर भाकऱ्या थापाव्या लागल्या. भाकऱ्यांची रचता रचता आई थकून गेली.
- (आ) भिकूने दिवसभरात वीस पोत्यांची गोदामातून ट्रकमध्ये हालवली.

ओळखा पाहू ?



- * काळ्या रानी उभी तलवार.
- * सगळीकडे आहे, जाणवते पण दिसत नाही.
- * एवढंसं पोर, घर कसं राखतं.
- * एक विहीर, तिला बत्तीस पायऱ्या, त्यामध्ये एकच रस्ता.
- * दोन भाऊ शेजारी, भेट नाही संसारी.

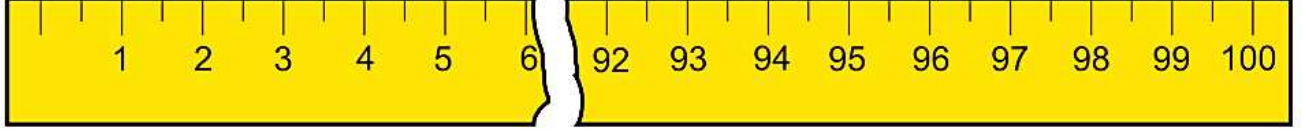
उत्तरे

डोळे, केसातला भांग,
कुलूप, हवा,
तोंड (दात, जीभ)

खालील उदाहरणे सोडवा.

मीटर-सेंटिमीटर

मीटर हे १ सेंटिमीटरच्या १०० पट असते. मोठे अंतर मोजण्यासाठी मीटर हे प्रमाणित एकक वापरतात.



मीटरपट्टी

खालील अंतर/लांबी सेंटिमीटरमध्ये मोजाल की मीटरमध्ये ते सारणीत लिहा

पेन्सिलीची लांबी		वहीची लांबी	
दोन इमारतींमधील अंतर		मोबाइलची लांबी	
रस्त्याची रुंदी		दोन खांबांतील अंतर	

खालील अंतरे तुम्ही प्रमाणित एककात मोजा व मित्रांना मोजायला सांगा. परस्परांची मापे पडताळा. फरक झाल्यास पुन्हा मोजा.

- ❖ शाळेच्या संरक्षक भिंतीची लांबी
- ❖ पुस्तकाची लांबी
- ❖ वृत्तपत्राची लांबी
- ❖ टेबलाची लांबी
- ❖ व्हरांड्याची लांबी
- ❖ टेबलाची जमिनीपासूनची उंची

माहीत करून घ्या.

- ❖ आईच्या साडीची लांबी
- ❖ बाबांच्या शर्टला लागणाऱ्या कापडाची लांबी
- ❖ ताईच्या ओढणीची लांबी
- ❖ टॉवेलची लांबी
- ❖ रुमालाची लांबी

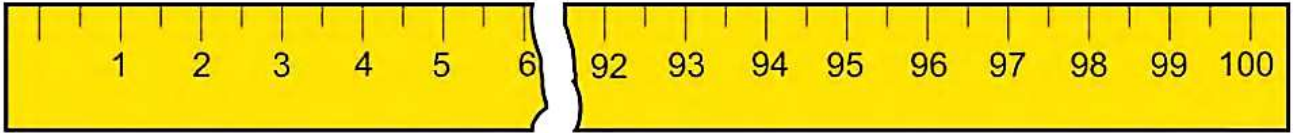
खालील मोजणीचा अंदाज करा. अंदाज बरोबर की चूक याचा प्रत्यक्ष मोजून पडताळा घ्या.

नाव	अंदाजे	प्रत्यक्ष पट्टीने /टेपने मोजून
भेंडीची लांबी		
गवारीच्या शेंगेची लांबी		
मिरचीच्या रोपाची उंची		
ज्वारीच्या धाटाची उंची		
वडाच्या झाडाचा घेर		
आवारातील दोन झाडांमधील अंतर		

 Solve the following examples..

Metre-Centimetre

A metre is hundred times as long as a centimetre. We use the standard unit metre to measure bigger distances.



A metre scale

◆ In the table, write whether you will measure the following lengths/distances in centimetres or metres.

Length of a pencil		Length of your notebook	
Distance between two buildings		Length of a mobile phone	
Width of a road		Distance between two poles	

◆ Measure the following distances in standard units. Get your friends to do so too. Compare your observations. And measure again if there is a difference.

- ❖ Length of the school compound wall
- ❖ Length of a book
- ❖ Length of a newspaper
- ❖ Length of a table
- ❖ Length of the verandah
- ❖ Height of a table above the floor

◆ Find out the lengths of the following.

- ❖ A sari
- ❖ Cloth required to make Father’s shirt
- ❖ A dupatta
- ❖ A towel
- ❖ A handkerchief

◆ Make an estimate of the measures of the following things. Then check your estimate against an actual measurement.

Name	Estimate	Actual measurement using tape/scale
Length of a ladyfinger		
Length of a cluster bean (guar) pod		
Height of a jowar plant		
The girth of a banyan tree trunk		
Distance between two trees in your school		

g-j-k-q


टैस्ट
मोडवा

1. Look at the pictures carefully. Then close your book and name the pictures you saw.



चित्रे लक्षपूर्वक पहा. नंतर पुस्तक बंद करा आणि तुम्ही पाहिलेल्या चित्रांची नावे सांगा.

(Teacher writes the words on the blackboard in place of the pictures when students name them.)



2. Now look at the words on the blackboard.

Listen carefully and find the words beginning with that sound.

फळ्यावरील शब्द पहा. लक्ष देऊन एका आणि त्या त्या ध्वनीने सुरू होणारे शब्द शोधा.

Teacher : ग् ज् क् क्व्



girl

queen

jar

jeep

kitten

joker

goat

kite

gate

kettle

question

queue

garlic

key

glass

jacket

'ज्' चा उच्चार 'जीप' मधील 'ज' प्रमाणे.
'जहाज' मधील 'ज' प्रमाणे नाही.

वाचा व समजून घ्या.

कडुलिंबाच्या, बाभळीच्या काड्या किंवा राखुंडी वापरल्याने दातांमधील फटी पूर्णपणे स्वच्छ होत नाहीत.

शिवाय राखुंडी खरखरीत असते. काड्या कठीण असतात. त्यामुळे हिरड्यांना इजा होऊ शकते.

ब्रश आणि पेस्ट वापरली तर दातांमधील फटी नीट स्वच्छ करता येतात. शिवाय पेस्टचा फेस होतो. त्यामुळे फटींमध्ये अडकलेले कण बाहेर पडायला मदत होते.



जरा डोके चालवा.

ट्रेस्ट
सोडवा

- तोंड धुण्याची सर्वात चांगली पद्धत कोणती ? का ?

खाण्याआधी हात का धुवायचे ?



करून पहा.

- एक काचेचे चंचुपात्र घ्या. ते अर्धे भरेल इतके स्वच्छ पाणी त्यात ओता.
- वर्गातील कोणत्याही एखाद्या विद्यार्थ्याला अथवा विद्यार्थिनीला त्यात हात धुवायला सांगा.
- नंतर त्या विद्यार्थ्याचा अथवा विद्यार्थिनीचा हात पहा.
- त्या चंचुपात्रातील पाण्यात काही फरक पडला आहे का, तेही पहा.

तुम्हांला काय आढळून येईल ?

- विद्यार्थ्याचा अथवा विद्यार्थिनीचा हात चंचुपात्रात धुतला होता. तो स्वच्छ झाला.
- चंचुपात्रातील पाणी थोडेसे गढूळ झाले.
- तुमच्या वर्गातील कुणीही हात धुतला असता तरी हेच आढळून आले असते.

यातून काय उलगडते ?

- दिवसभरात अनेक कारणांनी आपले हात अस्वच्छ होतात.

म्हणून खाण्यापूर्वी हात स्वच्छ धुवावेत.





स्वयंमूल्यमापन चाचणी पहा खालील लिंकवर..

पहिली	दुसरी	तिसरी	चौथी	पाचवी	सहावी	सातवी
क्लिक करा	क्लिक करा	क्लिक करा	क्लिक करा	क्लिक करा	क्लिक करा	क्लिक करा

माझा ऑनलाईन अभ्यास - प्रत्येक घटकाच्या टेस्ट सोडवा खालील लिंकवरून

चौथी मराठी	चौथी गणित	सेमी गणित	चौथी इंग्रजी	चौथी प.अ-1	चौथी प.अ-2
क्लिक करा	क्लिक करा	क्लिक करा	क्लिक करा	क्लिक करा	क्लिक करा

दररोजच्या माझा अभ्यास pdf तुम्हाला खालील लिंकवर मिळतील.

पहिली	दुसरी	तिसरी	चौथी	पाचवी	सहावी	सातवी
क्लिक करा	क्लिक करा	क्लिक करा	क्लिक करा	क्लिक करा	क्लिक करा	क्लिक करा

इतर इयत्तांच्या ऑनलाईन टेस्ट सोडवा खालील लिंकवरून...

पहिली	दुसरी	तिसरी	चौथी	पाचवी	सहावी	सातवी
क्लिक करा	क्लिक करा	क्लिक करा	क्लिक करा	क्लिक करा	क्लिक करा	क्लिक करा