



श्री.जयदिव डाकरे सर श्री.प्रविण डाकरे सर



गुरुमाऊली
एक शैक्षणिक व्यासपीठ

Subscribe

इयत्ता - दुसरी (3 जुलै) माझा अभ्यास

Subscribe

शासनाच्या 45 दिवसांच्या ब्रीज कोर्ससोबत माझा अभ्यास PDF

शासनाच्या ब्रीज कोर्ससोबत क्षमता प्राप्त विद्यार्थ्यांसाठी चालू इयत्तेचा अभ्यासक्रम समाविष्ट

दिवस तिसरा :



महाराष्ट्र शासन
शालेय शिक्षण व क्रीडा विभाग

सेतू अभ्यास
(Bridge Course)

शैक्षणिक वर्ष २०२१-२२

राज्य शैक्षणिक संशोधन व प्रशिक्षण परिषद, महाराष्ट्र, पुणे

स्वयंमूल्यमापन चाचणी 7 तारखेला असेल. ब्रीज कोर्ससोबत चालू इयत्तेचा नियमित अभ्यासक्रम समाविष्ट

✚ चित्रातील खेळांची नावे सांग.


टेस्ट
मोडवा

माझे खेळ

- तू कोणकोणते खेळ खेळतोस/खेळतेस, त्याविषयी सांग.



✚ भौमितिक आकार समजून घ्या.



गोळा करूया : काडेपेटी, दूधपेस्टचे खोके, मिठाईचे खोके, पाण्याच्या बाटल्या विविध आकाराचे चेंडू, कार्डपेपरची केलेली विदूषकाची टोपी, कार्डपेपरची नळकांडी.

टेबलावरील सारख्या आकाराच्या वस्तूंचे गट कर.

इष्टिकाचिती :

मिठाईचे खोके उचलून हाताळा. अशा आकाराला इष्टिकाचिती म्हणतात.



कोपरा

इष्टिका म्हणजे वीट. तुम्ही विटा पाहिल्या असतील. विटेसारख्या आकाराला इष्टिकाचिती म्हणतात.

या इष्टिकाचितीला किती कडा आहेत, किती कोपरे आहेत पाहूया बरं.

इष्टिकाचितीला कडा -

कोपरे -

आता चला इष्टिकाचितीचा पृष्ठभाग पाहूया

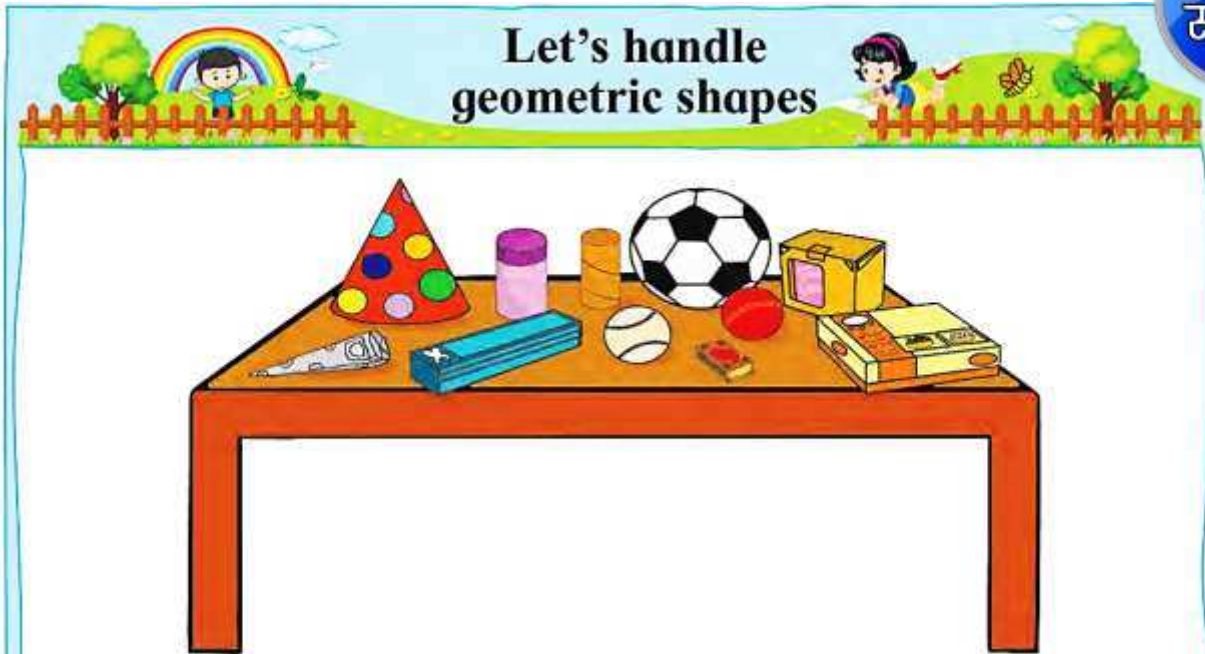
तो कसा सपाट आहे पाहा. त्याला एकूण सहा पृष्ठे आहेत. या इष्टिकाचितीचा पृष्ठभाग सपाट आहे, म्हणून इष्टिकाचिती घसगुंडीवर ठेवली तर ती घसरत खाली येईल.

शोध बरं

टेबलावरील इष्टिकाचिती आकाराच्या वस्तू



✚ Understand geometric shapes.



Let's collect : Match stick boxes, cartons of tooth paste, *mithai* etc. water bottles, balls of different sizes, a clowns cap and pipes made of card paper.

Observe the objects on the table. Separate the objects of similar shapes.

Cuboid or Parallelepiped :

Pick up and handle a *mithai* box. A shape such as this is called a cuboid or a parallelepiped.



Corner

You must have seen bricks on construction sites. Any object shaped like a brick is called a cuboid.

How many edges does this shape have ? How many corners ? Let's see.
A cuboid has - edges and - corners.

Now let us look at the surfaces of a cuboid

They are all flat. A cuboid has six surfaces altogether. If we place a cuboid on a slide in a park, it will slip down the slope because of its flat surface.

Find out

The objects on the table of cuboid shape.



✚ Listen and act. (ऐका आणि कृती करा.)

Say
Please

1.2 Activity Time

Listen carefully and act only when I say 'Please'.

Please sit down.



Turn around.



Please stand up.



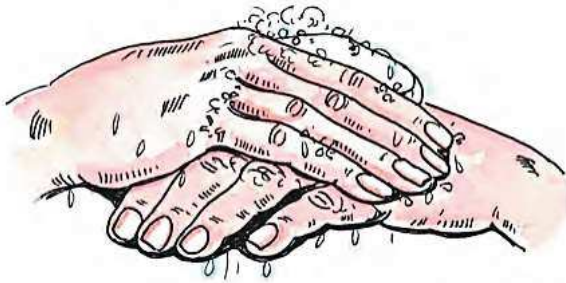
Please hop on one leg.



Hop on two legs.

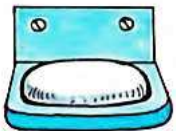


१.२ हातांची स्वच्छता



माझी कृती

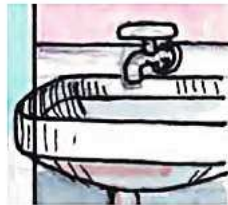
खालील साधनांचा योग्य वापर करा.



साबण



रुमाल



वाँश बेसिन



द्रवरुप साबण
(लिक्विड सोप)

◆ चित्रांचे निरीक्षण करण्यास सांगून चर्चा घडवून आणावी. आरोग्यदायी सवयींचे महत्त्व सांगावे. हाताच्या स्वच्छतेबाबत माहिती द्यावी. जेवणापूर्वी व नंतर तसेच मलमूत्र विसर्जनानंतर हाताच्या स्वच्छतेबाबत चर्चा घडवून आणावी.



स्वयंमूल्यमापन चाचणी पहा खालील लिंकवर..

पहिली	दुसरी	तिसरी	चौथी	पाचवी	सहावी	सातवी
क्लिक करा	क्लिक करा	क्लिक करा	क्लिक करा	क्लिक करा	क्लिक करा	क्लिक करा

माझा ऑनलाईन अभ्यास – प्रत्येक घटकाच्या टेस्ट सोडवा खालील लिंकवरून

दुसरी मराठी	दुसरी गणित	सेमी गणित	दुसरी इंग्रजी
इथे क्लिक करा	इथे क्लिक करा	इथे क्लिक करा	इथे क्लिक करा

दररोजच्या माझा अभ्यास pdf तुम्हाला खालील लिंकवर मिळतील.

पहिली	दुसरी	तिसरी	चौथी	पाचवी	सहावी	सातवी
क्लिक करा	क्लिक करा	क्लिक करा	क्लिक करा	क्लिक करा	क्लिक करा	क्लिक करा

इतर इयत्तांच्या ऑनलाईन टेस्ट सोडवा खालील लिंकवरून...

पहिली	दुसरी	तिसरी	चौथी	पाचवी	सहावी	सातवी
क्लिक करा	क्लिक करा	क्लिक करा	क्लिक करा	क्लिक करा	क्लिक करा	क्लिक करा