

Google ला सर्च करा



गुरुमाऊली



Subscribe

इयत्ता - चौथी (6 ऑगस्ट) विषय - मराठी

Subscribe

शासनाच्या 45 दिवसाच्या ब्रीज कोर्ससोबत माझा अभ्यास PDF

शासनाच्या ब्रीज कोर्ससोबत क्षमता प्राप्त विद्यार्थ्यांसाठी चालू इयत्तेचा अभ्यासक्रम समाविष्ट

दिवस सदतीस : 



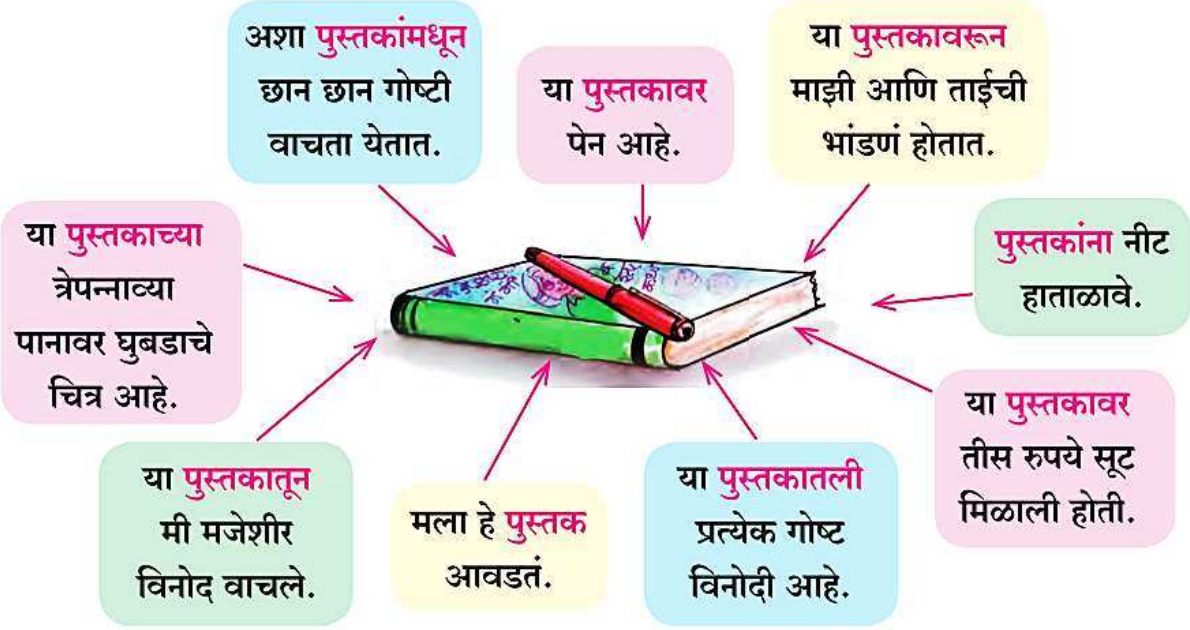
वाचा व समजून घ्या.

६. मायेची पाखर

उपक्रम :

- शैक्षणिक संस्था स्थापन केलेल्या थोर समाजसुधारकांचे फोटो मिळवा. चिकटवहीत चिकटवून त्यांची नावे लिहा.
- तुमच्या गावातल्या वसतिगृहात जाऊन तेथील मुलांशी/मुलींशी गप्पा मारा. तुम्हांला तिथे आढळलेल्या गोष्टींची नोंद करा.
- आपल्या परिसरातील शैक्षणिक संस्थांची यादी करा.

• वाचा. समजून घ्या.



- 'पुस्तक' हा एकच शब्द वरील वाक्यांमध्ये कसा विविध प्रकारे आला आहे ते वाचा. नीट समजावून घ्या. आता 'डुक्कर' हा शब्द योग्य प्रकारे वापरून खालील वाक्ये पूर्ण करा.
 - काही लोक शेतीसोबत पाळण्याचा व्यवसाय करतात.
 - आपल्याला चामडे मिळते.
 - वराह असेही म्हणतात.
 - डुक्कर पाळणारे लोक खूप माया करतात.
 - खवळलेल्या मारलेल्या मुसंडीला लोक घाबरतात.

बेरीज सराव करा.

चार अंकांपर्यंतच्या संख्यांची बेरीज

स्वाध्याय

बेरीज करा.

(१) ५६४२ + ४१७९

	ह	श	द	ए
	५	६	४	२
+	४	१	७	९

(२) ४९८४ + ७७५

	ह	श	द	ए
	४	९	८	४
+		७	७	५

(३) ७८५० + २९

	ह	श	द	ए
	७	८	५	०
+			२	९

(४) ५६८९ + १३५ + ८७

	ह	श	द	ए
+				
+				

(५) ७ + ४८९५ + १३७

	ह	श	द	ए
+				
+				

(६) २३९ + ५३१० + ३०

	ह	श	द	ए
+				
+				

◆ बेरीज करा : ६७८५ + ७४५३

	ह	श	द	ए
	६	७	८	५
+	७	४	५	३

	दह	ह	श	द	ए
		१	१		
		६	७	८	५
+		७	४	५	३
	१	४	२	३	८

प्रथम संख्यांची उभी मांडणी करू.

एककांत एकक मिळवू. ५ + ३ = ८

आता दशकांत दशक मिळवू.

८ द + ५ द = १३ द

१३ द म्हणजे १ श ३ द

१ श हातचा आला. ३ द उरले.

आता ७ श + ४ श = ११ श

११ श + हातचा १ श = १२ श

१२ श म्हणजे १ ह २ श

१ ह हातचा आला, उरले २ श.

आता ६ ह + ७ ह = १३ ह

१३ ह + हातचा १ ह = १४ ह

प्रत्येक स्थानाच्या खाली एकच अंक लिहितात, यावरून १४ ह म्हणजे १ दशहजार व ४ हजार. यातील १ साठी नवे स्थान निर्माण करू. दशहजाराचे स्थान 'दह' असे दाखवू. बेरीज आली १४२३८.

3. Addition



• add.

Addition of four-digit numbers

Exercise

Add.

(1) $5642 + 4179$

	Th	H	T	U
	5	6	4	2
+	4	1	7	9

(2) $4984 + 775$

	Th	H	T	U
	4	9	8	4
+		7	7	5

(3) $7850 + 29$

	Th	H	T	U
	7	8	5	0
+			2	9

(4) $5689 + 135 + 87$

	Th	H	T	U
+				
+				

(5) $7 + 4895 + 137$

	Th	H	T	U
+				
+				

(6) $239 + 5310 + 30$

	Th	H	T	U
+				
+				

◆ Add : $6785 + 7453$

	Th	H	T	U
	6	7	8	5
+	7	4	5	3

	TTh	Th	H	T	U
		1	1		
		6	7	8	5
+		7	4	5	3
	1	4	2	3	8

First, we arrange the numbers vertically.

Add units to units. $5 + 3 = 8$

Add tens to tens. $8T + 5T = 13T$

$13T$ means $1H$ and $3T$.

Carry over the $1H$. $3T$ remain.

Now, $7H + 4H = 11H$.

$11H + 1H$ carried over = $12H$.

$12H$ means $1Th$ and $2H$. Carry over $1Th$.

$2H$ remain.

Now, $6Th + 7Th = 13Th$

$13Th + 1Th$ carried over = $14Th$.

Now, only one digit is written in each place.

Since $14Th$ means $1TTh$ and $4Th$, we make a new place for the ten thousand. The new place will be marked 'TTh'.

The sum of the two numbers is 14238 .



Listen and understand.

The Hare and the Tortoise


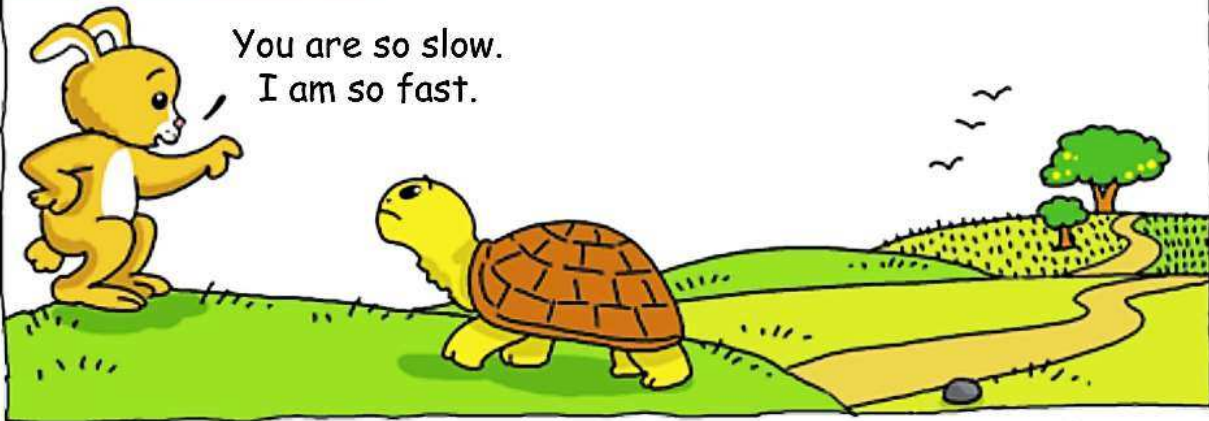


1. Listen and read aloud.


एका आणि मोठ्याने वाचा.



Once a hare and a tortoise decided to have a race.



The race began.
The hare ran with long leaps –
hop, hop, hop.



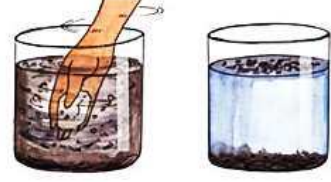
पाठ वाचा व समजून घ्या.

४. पिण्याचे पाणी

- पाण्यात तरंगत असलेले कण हळूहळू तळाशी बसतात आणि वरचे पाणी पारदर्शक होते. कचरा व काड्या मात्र अजूनही तरंगत आहेत.

यावरून काय उलगडते ?

- तुरटी फिरवल्याने गढूळ पाण्यातले मातीचे कण खाली बसायला मदत होते.



टेस्ट
मोडवा

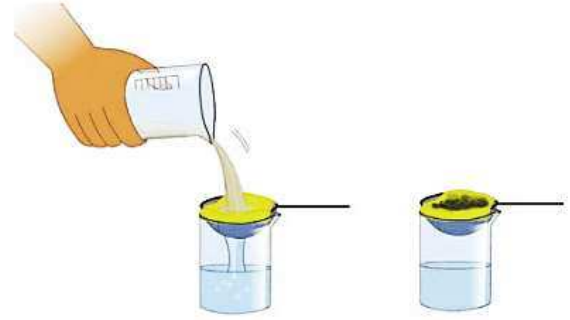
- आणखी एक मध्यम आकाराचे चंचुपात्र घ्या. त्यावर चहाचे गाळणे ठेवा.
- एक स्वच्छ, तलम सुती कापड घ्या. त्याची चौपदरी घडी घाला. ती ओली करून गाळणीवर पसरा. दुसऱ्या क्रमांकाच्या चंचुपात्रातील पाणी त्या घडीवर बारीक धार धरून ओता.

तुम्हांला काय आढळून येईल ?

- माती व कचरा कापडावर अडकून राहतो.
- गाळणी खालच्या चंचुपात्रात पाणी पडते. ते पारदर्शक दिसते.

यावरून काय उलगडते ?

- गढूळ पाणी गाळून घेतले तर ते स्वच्छ व्हायला मदत होते.



हा प्रयोग झाल्यावर वापरलेले पाणी बागेत/शेतात टाकून द्या. हात साबण लावून स्वच्छ धुवा.

नवा शब्द शिका

निर्धोक पाणी : जे पाणी प्यायले असता आपल्या प्रकृतीला कोणत्याही प्रकारे धोका होत नाही, अशा पाण्याला निर्धोक पाणी म्हणतात.

गढूळ पाणी स्वच्छ व पारदर्शक करण्याच्या पद्धती आपण पाहिल्या. परंतु असे स्वच्छ व पारदर्शक दिसणारे पाणी पिण्यासाठी निर्धोक असेलच असे नाही.



सांगा पाहू

- पावसाळ्यात नदीनाल्यांमधले पाणी गढूळ होते. ते आपण का पीत नाही ?
- तुम्ही एखाद्या ठिकाणी सहलीला गेलात. तिथल्या झऱ्याच्या किंवा विहिरीच्या पाण्याला दुर्गंधी येत असेल, तर तुम्ही ते पाणी प्याल का ?

४. शिवरायांचे बालपण

टैम्ट
सोडवा

वाचा व स्वाध्याय सोडवा.

३. दोन-तीन वाक्यांत उत्तरे लिहा.

- (अ) जिजाबाई शिवरायांना कोणाकोणाच्या गोष्टी सांगत ?
- (आ) शहाजीराजांनी निजामशाहाच्या वंशातील मुलाला निजामशाहा म्हणून जाहीर का केले ?

उपक्रम

- (अ) शिवनेरी किल्ल्याची सहल करा. तेथील शिवजन्म-स्थळाची माहिती मिळवा.
- (आ) तुम्ही खेळत असलेल्या पारंपरिक खेळांची नावे लिहा. त्यांपैकी एका खेळाविषयी १० ओळीत माहिती लिहा.



शिवनेरी किल्ला - महादरवाजा

माझा ऑनलाईन अभ्यास

स्वयंमूल्यमापन चाचणी पहा खालील लिंकवर..

पहिली	दुसरी	तिसरी	चौथी	पाचवी	सहावी	सातवी
क्लिक करा	क्लिक करा	क्लिक करा	क्लिक करा	क्लिक करा	क्लिक करा	क्लिक करा

माझा ऑनलाईन अभ्यास - प्रत्येक घटकाच्या टेस्ट सोडवा खालील लिंकवरून

चौथी मराठी	चौथी गणित	सेमी गणित	चौथी इंग्रजी	चौथी प.अ-1	चौथी प.अ-2
क्लिक करा	क्लिक करा	क्लिक करा	क्लिक करा	क्लिक करा	क्लिक करा

दररोजच्या माझा अभ्यास pdf तुम्हाला खालील लिंकवर मिळतील.

पहिली	दुसरी	तिसरी	चौथी	पाचवी	सहावी	सातवी
क्लिक करा	क्लिक करा	क्लिक करा	क्लिक करा	क्लिक करा	क्लिक करा	क्लिक करा

इतर इयत्तांच्या ऑनलाईन टेस्ट सोडवा खालील लिंकवरून..

पहिली	दुसरी	तिसरी	चौथी	पाचवी	सहावी	सातवी
क्लिक करा	क्लिक करा	क्लिक करा	क्लिक करा	क्लिक करा	क्लिक करा	क्लिक करा

MiniShala शैक्षणिक ॲप्स खालील लिंकवरून डाऊनलोड करा.

पहिली	दुसरी	तिसरी	चौथी	पाचवी	सहावी	सातवी
		आठवी	नववी	दहावी		

गुरुमाऊली शैक्षणिक ॲप्स - [Click Here](#)

निर्मिती - श्री.प्रविण डाकरे, श्री.जयदिप डाकरे

वेब स्रोत-'ई-बालभारती'

सौजन्य- जिल्हा परिषद कोल्हापूर

<https://www.gurumauli.in>