

Google ला सर्च करा



गुरुमाऊली



माझा अभ्यास

Study From Home



गुरुमाऊली  
एक वैश्विक व्यापार

Subscribe

इयत्ता - सहावी ( 16 ऑगस्ट ) विषय - मराठी

Subscribe

खालील बटणांना क्लिक करून ऑनलाईन टेस्ट सोडवू शकता.

मराठी टेस्ट

गणित टेस्ट

इंग्रजी टेस्ट

हिंदी टेस्ट

इति.नाशा टेस्ट

सेमी गणित टेस्ट

भूगोल टेस्ट

विज्ञान टेस्ट

✚ वाचा व समजून घ्या.

६

## पण थोडा उशीर झाला...



AULEZR

संदीप हरी नाझरे-(जन्म-१९८४)  
चारोळी, कविता, कथा, अनुभवकथन,  
लेख, ललित लेख इत्यादींचे लेखन.  
'वज्रमूठ' कवितासंग्रह प्रसिद्ध.  
विविध नियतकालिकांमधून साहित्य  
प्रसिद्ध.

कारगीलसारख्या धगधगत्या तणावपूर्ण सीमेवर सैनिक  
म्हणून काम करणारा तरुण आपल्या आजारी आईला भेटण्याच्या ओढीने  
घरी पोहोचतो; पण त्याआधीच त्याची आई हे जग सोडून गेलेली असते.  
सैनिकांच्या मनातील देशप्रेम व आईबद्दलची ओढ असा भावविभोर करणारा  
प्रसंग या पाठात लेखकाने चित्रित केला आहे.

कारगील, काश्मीर सरहद्दीवरील हिमालयातील अतिशय खडतर हवामानाच्या दुर्गम प्रदेशातील ठिकाण. या ठिकाणी सेवा बजावणे हे कोणत्याही सैनिकाच्या आयुष्यातील प्रचंड अवघड काम. अतिशय थंड हवामान आणि सतत धगधगणारी तणावपूर्ण सीमा; पण अशा प्रतिकूल परिस्थितीलाही पुरून उरणार नाही तो जवान कसला? इथला पावसाळा आणि हिवाळा जेवढा जीवघेणा, तेवढाच उन्हाळा सुखावह आणि आल्हाददायी. उन्हाळ्यात पहाडावरील बर्फ वितळून पर्वतरांगा हिरव्याकंच रंगाने नटून जातात. जमीन अशी दिसतच नाही; जणू वसुधेने हिरवागार शालू परिधान केला आहे. असा रमणीय निसर्ग आमचे मन उल्हसित करायचा.

मार्च महिन्याचे दिवस होते. बटालियनमध्ये आठ-पंधरा दिवसांतून एकदा पोस्टमन येत असे. पोस्टमन आला, की अक्षरशः इथं झुंबड उडे. सगळी बटालियन त्याच्यावर तुटून पडे. आपल्याला आलेलं पत्र वाचताना पोलादी छातीच्या सैनिकाचं मन चंद्रमण्यासारखं पाझरून कधी वाहू लागायचं ते समजायचं नाही. एकमेकांच्या पाठीवर आधाराची थाप पडायची आणि गावाकडच्या आठवणींना उजाळा देत पुन्हा नव्या जोशात आम्ही कामावर खडे व्हायचो.

बायकोनं पाठवलेलं अंतर्देशीय पत्र घेऊन मी बंकरकडे वळलो. पत्रावर तिच्या आसवांच्या सुकलेल्या डागांशिवाय काहीच लिहिलेलं नव्हतं. पत्रात काही लिहिलं नसलं तरी ते बोलकं पत्र बराच वेळ मी वाचत



बसलो होतो. इथून गावाकडे जाण्यातच सुट्टीतले आठ-दहा दिवस जायचे. गावाकडं गेल्यावर पाव्हण्यारावळ्यांकडे जाणं-येणं आलंच. त्यातच बहिणींचे रक्षाबंधन, भाऊबीज त्यांच्या गावी जाऊन साजरी करणं, हे सगळं करता करता परतीचा दिवस कधी उगवायचा हेच उमगायचं नाही. तसं कारगीलसारख्या दुर्गम ठिकाणी कुटुंब आणणं कोणत्याही सैनिकाला शक्य नव्हतं. पत्नीची कधीच तक्रार नसायची. मी बजावत असलेल्या देशसेवेची तिला जाणीव होती.

वाचा व सोडवा.

4

अपूर्णाकांवरील क्रिया

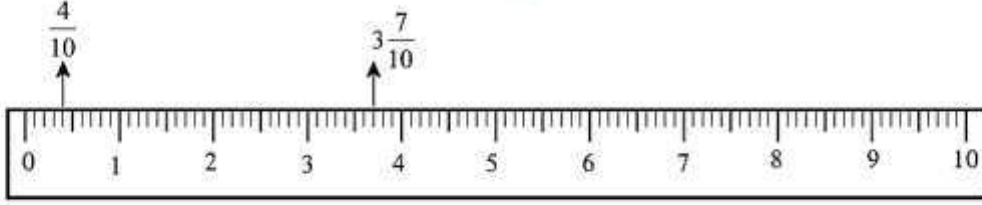
टेस्ट  
सोडवा



जाणून घेऊया.

**सराव**

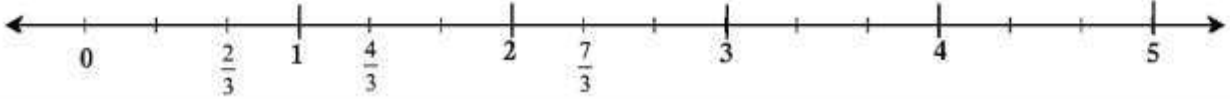
संख्यारेषेवर अपूर्णाक दाखवणे



$\frac{4}{10}$  व  $3\frac{7}{10}$  हे अपूर्णाक संख्यापट्टीवर दाखवणे सोपे आहे कारण मोजपट्टीवर प्रत्येक सेंटिमीटरचे दहा समान भाग असतात. एककात शून्यापासून चौथा भाग  $\frac{4}{10}$  हा अपूर्णाक दाखवतो. 3 व 4 यांच्यामधील दहा समान भागांपैकी 3 च्या पुढील 7 वी खूण ही  $3\frac{7}{10}$  हा पूर्णाकयुक्त अपूर्णाक दाखवते.

उदा. संख्यारेषेवर  $\frac{2}{3}$ ,  $\frac{4}{3}$ ,  $\frac{7}{3}$  हे अपूर्णाक दाखवू.

खालील पट्टीवर प्रत्येक एककाचे 3 समान भाग केले आहेत.



हे मला समजले.

एखादा अपूर्णाक संख्यारेषेवर दाखवायचा असेल, तर संख्यारेषेवर प्रत्येक एककाचे अपूर्णाकाच्या छेदाइतके समान भाग करावे लागतात.

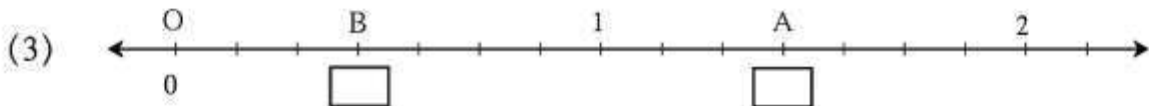
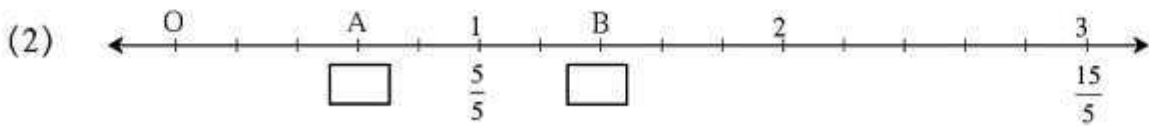
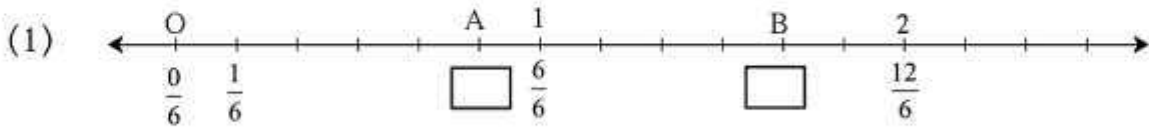


विचार करा.

संख्यारेषेवर  $\frac{3}{10}$ ,  $\frac{9}{20}$ ,  $\frac{19}{40}$  हे अपूर्णाक दाखवण्यासाठी किती मोठा एकक घ्यावा ?

**सरावसंच 11**

1. खालील रेषांवर A व B बिंदू कोणते अपूर्णाक दर्शवतात ते रिकाम्या चौकटीत लिहा.



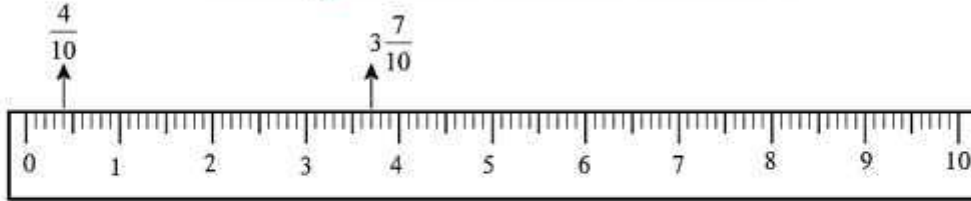
Read and solve.



Let's learn.

revision

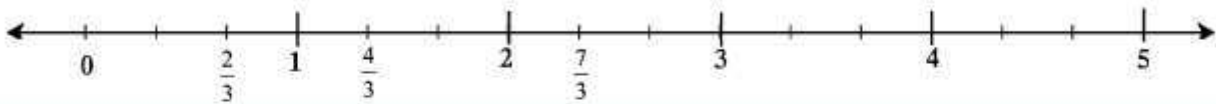
Showing Fractions on the Number Line



It is easy to mark the fractions  $\frac{4}{10}$  and  $3\frac{7}{10}$  on the number line because on the scale, every centimetre is divided into 10 equal parts. In the first unit, the fourth mark from zero shows the fraction  $\frac{4}{10}$ . The 7<sup>th</sup> mark of the 10 equal parts after 3, between the numbers 3 and 4, shows the fraction  $3\frac{7}{10}$ .

**Example :** Let us show the fractions  $\frac{2}{3}$ ,  $\frac{4}{3}$ ,  $\frac{7}{3}$  on the number line.

On the number line below, every unit is divided into 3 equal parts.



Now I know -

If a fraction has to be shown on a number line, every unit on the number line must be divided into as many equal parts as the denominator of the fraction.

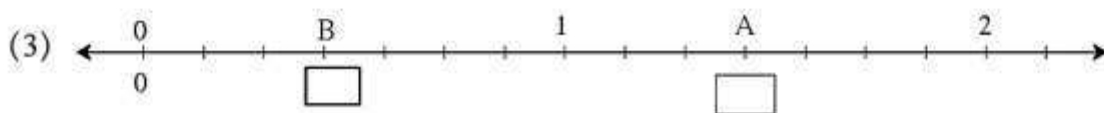
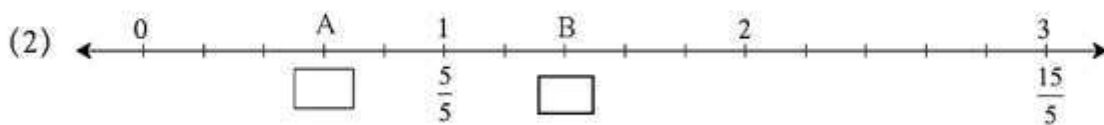
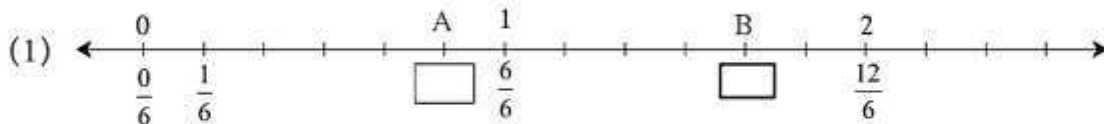


Think about it.

If we want to show the fractions  $\frac{3}{10}$ ,  $\frac{9}{20}$ ,  $\frac{19}{40}$  on the number line, how big should the unit be?

Practice Set 11

1. What fractions do the points A and B show on the number lines below?





Read and understand.

Revision



3. Read Grandpa's story aloud.

## Grandpa's Story

## Tit for Tat

Once upon a time, a camel and a jackal lived by a river, near the water's edge. And on the other side of the river, there was a village with fields and farms.

The jackal was very clever. He tried to play a trick on his friend, the camel, who was happily munching away his food. The jackal began to tempt him to go for a sugarcane treat in a farmer's field. At first, the camel hesitated but in the end he agreed to go with the jackal to raid the sugarcane field.

The jackal sat on the camel's back and the two friends crossed the river. They ate their fill in the sugarcane field. Suddenly, the jackal began to howl. "Sssh!" said the camel. "You will wake the farmer." But the jackal went on howling. Sure enough, the farmer and his helpers came running to the field. The naughty jackal slipped away but the poor camel could not do so. The farmer beat him up and drove him away.

The jackal was waiting for the camel at the riverside. He said, "Sorry brother. But I am in the habit of singing after a good dinner. I hope you didn't mind it much."

The camel didn't say anything. He let the jackal sit on his back and entered the river. Near the middle of the river, the water was very deep. There the camel began to take a dip in the river. The jackal was frightened. "What are you doing, you silly fellow! Are you trying to drown me?"

"No, brother," said the camel. "It's just that I am in the habit of taking a dip in the river, after a good meal. I hope you don't mind!"

The naughty jackal learnt his lesson. He never troubled the camel again.





## पाठ वाचा व समजून घ्या.



गुरू-शिष्य

टप्प्यावर त्याने घरादाराच्या मोहाचा त्याग करून दूर जावे, मनुष्यवस्ती नसलेल्या ठिकाणी रहावे आणि अत्यंत साधेपणाने जगावे. चौथा आश्रम म्हणजे 'संन्यासाश्रम'. या टप्प्यावर मनुष्याने सर्व नात्यांचा त्याग करून मनुष्यजन्माचा अर्थ समजावून घेण्यासाठी जगावे, फार काळ एके ठिकाणी राहू नये, असा संकेत होता.

### ४.४ धर्मकल्पना

वेदकालीन धर्मकल्पनांमध्ये निसर्गातील सूर्य, वारा, पाऊस, वीज, वादळे, नद्या यांसारख्या निसर्गातील शक्तींना देवतारूप दिलेले होते. त्या जीवनदायी ठराव्यात म्हणून वेदांमध्ये त्यांच्या प्रार्थना केलेल्या आहेत. त्यांना प्रसन्न ठेवण्यासाठी वेदकालीन लोक अग्नीमध्ये विविध पदार्थ अर्पण करत. त्याला 'हवी' असे म्हणत. अशा तऱ्हेने अग्नीमध्ये 'हवी' अर्पण करण्याचा विधी म्हणजे यज्ञ. सुरुवातीला यज्ञविधीचे स्वरूप साधे होते. पुढे त्यांचे नियम



यज्ञ

## ४. वैदिक संस्कृती

अधिकाधिक कठीण होत गेले. ते कठीण यज्ञविधी पार पाडणाऱ्या पुरोहितांचे महत्त्व त्यामुळे वाढत गेले.

वेदकालीन लोकांनी सृष्टीचे व्यवहार कसे चालतात याचाही विचार केला होता. उन्हाळ्यानंतर पावसाळा येतो, पावसाळ्यानंतर हिवाळा. हे नियमित असणारे सृष्टिचक्र आहे. सृष्टिचक्र आणि त्याच्या गतीने फिरणारे जीवनचक्र याला वेदकालीन लोकांनी 'ऋत' असे नाव दिले. प्राणिमात्रांचे जीवन हाही सृष्टिचक्राचाच एक भाग आहे. सृष्टिचक्रात बिघाड झाल्यावर संकटे येतात. तसे होऊ नये म्हणून प्रत्येकाने काळजी घ्यायला हवी. कोणीही सृष्टीचे नियम मोडू नयेत, असे वागणे म्हणजे धर्माप्रमाणे वागणे, असे समजले जाई.



### चला, चर्चा करू.

सृष्टिचक्रात बिघाड कशांमुळे होऊ शकतात ?  
ते होऊ नये म्हणून तुम्ही कोणते प्रयत्न कराल ?  
उदा., पाऊस कमी पडला तर पिण्याच्या पाण्याचे नियोजन कसे कराल ?

### ४.५ शासनव्यवस्था

वेदकाळात प्रत्येक ग्रामवसाहतीचा एक प्रमुख असे. त्याला 'ग्रामणी' असे म्हणत. अनेक ग्रामवसाहतींचा समूह म्हणजे 'विश'. त्याच्या प्रमुखाला 'विशपति' असे म्हणत. अनेक 'विश' मिळून 'जन' तयार होत असे. पुढे जन जेव्हा एखाद्या विशिष्ट प्रदेशात स्थिरावले, तेव्हा त्या प्रदेशाला 'जनपद' म्हटले गेले. 'जन'च्या प्रमुखाला 'नृप' किंवा 'राजा' म्हटले जाई. प्रजेचे रक्षण करणे, कर गोळा करणे आणि उत्तम राज्यकारभार करणे ही राजाची कर्तव्ये होती.

राज्यकारभार उत्तम रीतीने चालवण्यास साहाय्य करण्यासाठी राजाने अधिकारी नेमलेले असत. पुरोहित आणि सेनापती हे विशेष महत्त्वाचे अधिकारी होते. करवसुली करण्यासाठी नेमलेल्या अधिकाऱ्याला

निरीक्षण करा व समजून घ्या.

सराव

टैस्ट  
मोडवा



## ४. हवा व हवामान



सांगा पाहू.

भारतातील पुढील ठिकाणी १० जून या दिवशी वातावरणाची स्थिती पुढीलप्रमाणे आहे. या तक्त्याच्या आधारे प्रश्नांची उत्तरे सांगा.

अ. क्र.	शहर	राज्य	वेळ	हवा कशी आहे ?
१.	कोच्चि	केरळ	दु. १२.३० वा.	ढगाळ आहे.
२.	भोपाळ	मध्यप्रदेश	दु. १२.३० वा.	कडक ऊन पडले आहे.
३.	मसुरी	उत्तराखंड	दु. १२.३० वा.	थंड हवा व बेताचे ऊन.

- कोणत्या ठिकाणाचे वाळत घातलेले कपडे लवकर वाळतील ते सकारण सांगा.
- कोणत्या ठिकाणी कपडे उशिरा वाळतील व का ?
- या ठिकाणांच्या वातावरणाची स्थिती नेहमी अशीच राहिल की त्यात बदल होईल ?

### भौगोलिक स्पष्टीकरण

वरील प्रत्येक ठिकाणावरील १० जून या दिवशी हवेची स्थिती भिन्न आहे. कोच्चिला ढगाळ हवा आहे. म्हणजे सूर्यप्रकाश नाही. पावसाळा नुकताच सुरू झाला आहे. त्यामुळे हवेत बाष्पाचे प्रमाण अधिक असते. म्हणून कपडे लवकर वाळत नाहीत. अशी स्थिती तुम्हीही पावसाळ्यात अनुभवली असेल.

भोपाळला कडक ऊन आहे. ओल्या कपड्यांतील पाण्याचे बाष्पात पटकन रूपांतर होईल व कपडे लवकर वाळतील.

मसुरी कर्कवृत्ताच्या उत्तरेस असल्याने तेथे सूर्याची उष्णता कमी मिळते. पर्वतीय प्रदेशामुळे हवा थंड असते. थंड हवा व बेताच्या उन्हामुळे कपडे वाळण्यास जास्त कालावधी लागतो.

वातावरणातील उष्णता, बाष्प तसेच वाहत्या वाऱ्याने देखील कपडे लवकर वाळतात. वातावरणाच्या स्थितीत याप्रमाणे सतत बदल होत असतात. वातावरणातील हे बदल आपणही नेहमी अनुभवत असतो.



सांगा पाहू.

तुमच्या परिसरातील कालच्या किंवा आजच्या हवेशी पुढीलपैकी कोणकोणती विधाने जुळतात ते पहा. याशिवाय आणखी कोणती विधाने तुम्हांला सुचतात.



आकृती ४.१ : शेकोटीला बसलेली मुले

- सकाळी थंडी होती.
- दुपारी उकडत होते.
- दुपारी अचानक पाऊस आला.
- पहाटे गार वारा सुटला होता.
- संध्याकाळी ढग जमा झाले होते.
- रात्री फार छान चांदणे पडले होते, वाऱ्याचीही छान झुळूक येत होती.

### \* हवा

एखाद्या ठिकाणची विशिष्ट वेळेला असणारी वातावरणाची स्थिती आपण प्रत्येकजण अनुभवत असतो. तिचे वर्णनही आपण करतो. ही स्थिती अल्पकालीन असते. यालाच आपण त्या ठिकाणाची हवा म्हणतो. उदा., थंड हवा, गरम हवा, कोरडी हवा, दमट हवा, इत्यादी.

### वाचा व समजून घ्या.

### सराव

टॅस्ट  
सोडवा



करून पहा.

डबक्यातील पाण्याचा एक थेंब काचपट्टीवर घ्या. सूक्ष्मदर्शकाखाली त्याचे निरीक्षण करा. काय दिसते ?

पाण्याच्या डबक्यातील पाण्याचा थेंब सूक्ष्मदर्शकाखाली पाहिला, की त्यामध्ये हालचाल करणारे असंख्य सूक्ष्मजीव दिसतील. सतत हालचाल करणारा अमिबा दिसेल. अमिबाप्रमाणे पॅरामेशिअम हासुद्धा एकपेशीय प्राणी आहे.

घोडा, अस्वल, कासव असे इतर प्राणी मात्र बहुपेशीय प्राणी आहेत.



सांगा पाहू !

१. आपल्या पाठीच्या मध्यावरून जी हाडांची माळ जाते तिला काय म्हणतात ?



पाठीचा कणा असलेल्या व नसलेल्या प्राण्यांचे पृष्ठवंशीय व अपृष्ठवंशीय प्राणी असे दोन गट पडतात.

साप, मानव, पक्षी, मासा, कांगारू हे पृष्ठवंशीय प्राणी आहेत. गोगलगाय, झुरळ, गांडूळ अशा प्राण्यांना पाठीचा कणा नसल्याने ते अपृष्ठवंशीय प्राणी आहेत.



२. अंडी घालणारे, पिलांना जन्म देणारे प्राणी कोणकोणते आहेत ?

स्वतःसारखा दुसरा जीव निर्माण करणे म्हणजे पुनरुत्पादन हे आपण शिकलो आहोत. कोंबडी अंडी घालते व ती उबवते. काही दिवसांनंतर त्यातून पिले बाहेर येतात. गाय वासराला जन्म देते. गाईच्या वासराची वाढ गाईच्या शरीरातच होते. प्रजनन प्रकारानुसार प्राण्यांचे अंडज व जरायुज प्राणी असे दोन प्रकार आहेत.



३. घोडा, अस्वल, कासव, सुसर, मासा, हरीण, बेडूक हे प्राणी कोठे आढळतात ?

प्राण्यांच्या राहण्याच्या ठिकाणांवरून त्यांचे भूचर आणि जलचर असे सर्वसाधारण वर्गीकरण केले जाते, परंतु बेडूक, सॅलेमेंडर, टोड हे प्राणी जमीन व पाणी या दोन्ही ठिकाणी राहतात, म्हणून त्यांना उभयचर म्हणतात.

घार, गरुड, कावळा, फुलपाखरे, मधमाशी हे विविध ठिकाणी राहत असले तरी हवेमध्ये संचार करतात. त्यांना खेचर असे म्हणतात.



जरा डोके चालवा.

प्राण्यांचे वर्गीकरण कोणकोणत्या निकषांच्या आधारे केले जाते ?



## 3. Diversity in Living Things and their Classification

**Read and understand.**



**Try this.**

Take a drop of water from a puddle and place it on a glass slide. Observe it under a microscope. What do you see?

When a drop of water from a puddle is seen under a microscope, innumerable microbes can be seen moving about in it. You will see the continuously moving amoeba. The paramoecium is also a **unicellular** animal like the amoeba.

A horse, a bear, a tortoise are **multicellular** animals.



**Revision**



**Can you tell?**

1. What is the chain of bones in the centre of our back called?

Animals with a vertebral column and those without it form two groups known as the **vertebrates** and **invertebrates**, respectively.

Snakes, birds, fish and kangaroos as also humans are vertebrate animals. Animals such as snails, cockroaches, earthworms do not have a vertebral column and therefore they are invertebrate animals.

2. Name some animals which lay eggs and others which give birth to their young ones.

We have learnt that producing another living thing like oneself is called reproduction. A hen lays eggs and hatches them. After a few days, the young chicks hatch out of the eggs. A cow gives birth to a calf. Before that, the calf grows within the cow's body. According to the mode of reproduction, animals are classified into two types, namely, **oviparous animals** which lay eggs and **viviparous animals** which give birth to their young ones.

3. Where are the animals, namely, a horse, a bear, a tortoise, an alligator, a fish, a deer and a frog to be found?

According to their habitat, animals are usually classified into **terrestrial** and **aquatic** animals. However, animals like a frog, salamander, toad live in both places, namely, land and water. Therefore, they are called **amphibious animals**.



A kite, an eagle, a crow, a butterfly, a honeybee all fly in the air, though they live in different places. These animals are said to have an **aerial mode of life**.



**Use your brain power!**

What are the different criteria used to classify animals?

● सुनो और समझो :  
रियाज

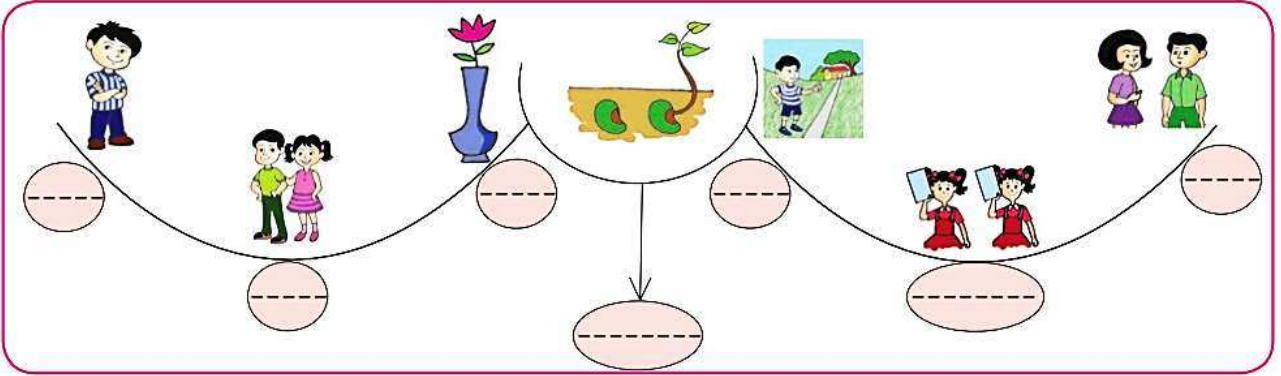
मेरा अहोभाग्य

- चंद्रगुप्त विद्यालंकार

जन्म : १९०६ रचनाएँ : 'संदेह', 'मेरा बचपन', 'न्याय की रात', 'मेरा मास्टर साहेब', 'चंद्रकला', 'पगली', 'तीन दिन', 'भय का राज्य', 'देव और मानव' आदि। परिचय : आपने साहित्य एवं पत्रकारिता के क्षेत्र में उल्लेखनीय कार्य किया है। प्रस्तुत पाठ में लेखक ने गुरुदेव रवींद्रनाथ ठाकुर जी से हुई भेंट से संबंधित संस्मरण बताया है।

नाम तुम्हारे

\* चित्र देखकर उचित सर्वनाम ( ) में लिखो : (तू, मैं, वह, यह, क्या, जैसा-वैसा, अपने-आप)



फरवरी १९३६ में मुझे शांति निकेतन जाना था। वहाँ एक साहित्यिक कार्यक्रम होने वाला था। मैं बहुत ही उल्लसित था क्योंकि उस कार्यक्रम की अध्यक्षता स्वयं गुरुदेव रवींद्रनाथ जी करने वाले थे।

निश्चित दिन कोलकाता से हम बहुत सारे लोग शांति निकेतन के लिए रवाना हुए। लगभग एक दर्जन हिंदीवालों का यह दल शांति निकेतन के सुंदर अतिथि-भवन में ठहराया गया। यह अतिथि भवन अशोक वृक्षों

के सघन उपवन के बीचोबीच बनाया गया था। बहुत ही सुंदर, बड़ी और अच्छी इमारत थी वह ! जैसा सोचा था वैसा ही पाया। ऊपर की मंजिल के एक कमरे में हमें ठहराया गया। कमरे के बाहर एक विस्तृत बरामदा था। बरामदे में खड़े होकर अगर बाहर देखा जाए तो सामने ही सघन बकुल वृक्ष दिखाई देते थे।

दूसरे दिन प्रातःकाल ही हमें बताया गया कि गुरुदेव का स्वास्थ्य ठीक नहीं है, अतः कार्यक्रम की बैठक में वे नहीं आ पाएँगे। मैं बहुत निराश हो गया तथापि हमें जब यह मालूम पड़ा कि उनके डॉक्टर ने हम लोगों को केवल पंद्रह मिनटों का समय दिया है, जिसमें गुरुदेव के दर्शन तथा उनके साथ संक्षिप्त वार्तालाप भी हो सकता है तब हमारी खुशी का ठिकाना न रहा। हम बेसब्री से उस क्षण का इंतजार करने लगे।

मध्याह्न के बाद गुरुदेव की भेंट हुई। करीब चार बजे होंगे। गुरुदेव की धारणा थी कि कुछ दो-तीन आदमी ही होंगे। पर जब उन्होंने हम चौदह जनों को



□ संस्मरण में आए सर्वनाम शब्दों को (मैं, वह, कुछ, जैसा-वैसा, अपने-आप) श्यामपट्ट पर लिखें। इनके भेदों को प्रयोग द्वारा समझाएँ और अन्य शब्द कहलाएँ। विद्यार्थियों से कृति करवाने के पश्चात उनका वाक्यों में प्रयोग करवाकर दृढीकरण कराएँ।

## माझा ऑनलाईन अभ्यास

स्वयंमूल्यमापन चाचणी पहा खालील लिंकवर..

पहिली	दुसरी	तिसरी	चौथी	पाचवी	सहावी	सातवी
<a href="#">क्लिक करा</a>	<a href="#">क्लिक करा</a>	<a href="#">क्लिक करा</a>	<a href="#">क्लिक करा</a>	<a href="#">क्लिक करा</a>	<a href="#">क्लिक करा</a>	<a href="#">क्लिक करा</a>

माझा ऑनलाईन अभ्यास – प्रत्येक घटकाच्या टेस्ट सोडवा खालील लिंकवरून

सहावी मराठी	सहावी गणित	सेमी गणित	सहावी इंग्रजी	सहावी इतिहास
<a href="#">क्लिक करा</a>	<a href="#">क्लिक करा</a>	<a href="#">क्लिक करा</a>	<a href="#">क्लिक करा</a>	<a href="#">क्लिक करा</a>
सहावी भूगोल	सहावी विज्ञान	सेमी विज्ञान	सहावी हिंदी	
<a href="#">क्लिक करा</a>	<a href="#">क्लिक करा</a>	<a href="#">क्लिक करा</a>	<a href="#">क्लिक करा</a>	

दररोजच्या माझा अभ्यास pdf तुम्हाला खालील लिंकवर मिळतील.

पहिली	दुसरी	तिसरी	चौथी	पाचवी	सहावी	सातवी
<a href="#">क्लिक करा</a>	<a href="#">क्लिक करा</a>	<a href="#">क्लिक करा</a>	<a href="#">क्लिक करा</a>	<a href="#">क्लिक करा</a>	<a href="#">क्लिक करा</a>	<a href="#">क्लिक करा</a>

इतर इयत्तांच्या ऑनलाईन टेस्ट सोडवा खालील लिंकवरून...

पहिली	दुसरी	तिसरी	चौथी	पाचवी	सहावी	सातवी
<a href="#">क्लिक करा</a>	<a href="#">क्लिक करा</a>	<a href="#">क्लिक करा</a>	<a href="#">क्लिक करा</a>	<a href="#">क्लिक करा</a>	<a href="#">क्लिक करा</a>	<a href="#">क्लिक करा</a>

MiniShala शैक्षणिक ॲप्स खालील लिंकवरून डाऊनलोड करा.

<a href="#">पहिली</a>	<a href="#">दुसरी</a>	<a href="#">तिसरी</a>	<a href="#">चौथी</a>	<a href="#">पाचवी</a>	<a href="#">सहावी</a>	<a href="#">सातवी</a>
		<a href="#">आठवी</a>	<a href="#">नववी</a>	<a href="#">दहावी</a>		

गुरुमाऊली शैक्षणिक ॲप्स - [Click Here](#)