

Google ला सर्च करा



गुरुमाऊली



गुरुमाऊली
एक शैक्षणिक व्यासपीठ



Subscribe

इयत्ता - चौथी (16 ऑगस्ट) विषय - मराठी

Subscribe

खालील बटणांना क्लिक करून ऑनलाईन टेस्ट सोडवू शकता.

मराठी टेस्ट

गणित टेस्ट

इंग्रजी टेस्ट

सेमी गणित टेस्ट

प.अभ्यास-1 टेस्ट

प.अभ्यास-2 टेस्ट

कविता वाचा व स्वाध्याय सोडवा.

तालासुरात म्हणा.

टैस्ट
सोडवा

मराव

स्वाध्याय

कविता
पहा

प्र. १. एका वाक्यात उत्तरे लिहा.

- (अ) कोणाचा जीव झुरणीला लागला ?
 (आ) धरणीला कशाचा ध्यास आहे ?
 (इ) कोणते दिवस येऊ नयेत, असे कवीला वाटते ?

प्र. २. थोडक्यात उत्तरे लिहा.

- (अ) कोरडे नक्षत्र गेल्यावर शेतकऱ्यांच्या मनात कोणकोणते विचार येत असतील ?
 (आ) शेतकऱ्यांच्या शेतात भरपूर पीक आले, तर त्यांच्या मनात कोणते विचार येतील ?
 (इ) पाऊस पडला नाही तर काय होईल, असे तुम्हांला वाटते ?

प्र. ३. ओळी पूर्ण करा.

- (अ) बरकत
 धूळ,
 (आ) मोत्यांची
 आस,
 (इ) कासावीस
 बनले,
 (ई) मिळता
 इशारे,

प्र. ४. खालील ओळींचा अर्थ तुमच्या शब्दांत लिहा.

- (अ) हिरव्या पिसांचा
 ध्यास धरणीला.
 (आ) मातीच्या कणाला
 फुटले धुमारे.

प्र. ५. पावसाळा येऊनही पाऊस पडत नसला, की शेतकऱ्यांना दिवस जाचक म्हणजे त्रासाचे वाटू लागतात. तुमच्या परिसरातील खालील व्यक्तींना कोणते दिवस जाचक वाटत असतील, याविषयी त्यांच्याशी चर्चा करा.

- (अ) बांधकामावर काम करणारे मजूर. (ई) शिक्षक.
 (आ) आई-वडील. (उ) शाळेबाहेर खाऊ विकणारे.
 (इ) ऊसतोडणी कामगार.

प्र. ६. ही कविता धूळपेरणीची आहे. या कवितेत शेतकरी पावसाची वाट पाहत आहे. पाऊस आला नाही, तर त्याला शेती करता येणार नाही. या उलट काही लोकांना खूप पाऊस आला, तर काम/व्यवसाय करता येणार नाही. अशा लोकांची माहिती घ्या. उदा., रस्त्याच्या कडेला बसून भाजी विकणारे.

उपक्रम :

- शेतकरी, शेतमजूर यांपैकी कोणाचीही मुलाखत घ्या.
- पावसाच्या नक्षत्रांची नावे माहित करून घ्या.
- अन्नधान्य योग्य पद्धतीने वापरले जावे, याची जाणीव सर्वांना करून देण्यासाठी घोषवाक्ये तयार करा.

वजाबाकी करा.

४. वजाबाकी

उजळणी

(१) एका वनराईमध्ये सागवानाची ४५२ व कडूलिंबाची ३२१ झाडे आहेत, तर सागवानाच्या झाडांएवढी संख्या होण्यासाठी कडूलिंबाची आणखी किती झाडे लावावी लागतील ?

$$\begin{array}{r} ४५२ \\ - ३२१ \\ \hline १३१ \end{array}$$

उत्तर काढण्यासाठी ३२१ च्या पुढे ४५२ पर्यंत मोजावे लागेल, म्हणजेच ४५२ मधून ३२१ वजा करावे लागतील.
कडूलिंबाची आणखी १३१ झाडे लावावी लागतील.

(२) अजयने २०७ बिया जमवल्या आणि विजयने १६५ बिया जमवल्या. विजयपेक्षा अजयकडे किती बिया जास्त आहेत ?

उत्तर शोधण्यासाठी २०७ - १६५ ही वजाबाकी करावी लागेल.

श	द	ए
१	१०	
२	०	७
१	६	५
०	४	२

७ एककांतून ५ एकक वजा करू. उरले २.

आता ० दशकातून ६ दशक वजा करता येणार नाहीत,

पण २ शतक आहेत, त्यांतील १ शतक मोकळा करू.

शतकाच्या घरात १ शतक राहिला. एका शतकाचे १० दशक होतात. ते १० दशक, दशकाच्या घरात लिहू.

त्यांतून ६ दशक वजा करू, म्हणजे उरले ४ दशक.

आता १ शतकातून १ शतक वजा करू. उरले ०.

उत्तर आले ४२.

म्हणजेच विजयपेक्षा अजयकडे ४२ बिया जास्त आहेत.

स्वाध्याय

१. उभी मांडणी करून वजाबाकी करा.

(१) ५८६ - ४२५

(२) ४६५ - १७९

(३) ५४२ - ३५१

(४) ७५४ - २८७

(५) ५०० - ३६५

(६) ५०२ - ३०७

२. ४०० - १०० = ३०० यावरून ४७७ - १७७ ही वजाबाकी सांगा.

तसेच वजाबाकी २०० येईल अशी तीन उदाहरणे तयार करा.

३. रजनीने ३७२ रुपयांचा एक गणवेश व २५० रुपयांचे दप्तर खरेदी केले, तर तिने दप्तरापेक्षा गणवेशावर किती जास्त खर्च केला ?

४. दोन संख्यांची बेरीज ९१५ आहे. त्यांपैकी एक संख्या ४२७ आहे, तर दुसरी संख्या कोणती ?

५. दोन संख्यांची बेरीज ९१५ आहे. त्यांपैकी एक संख्या तुम्हीच निवडा, की जी ८०० पेक्षा लहान असेल. त्यावरून दुसरी संख्या कोणती असेल ती सांगा.

६. ५३४, २५२ ह्या संख्या वापरून वजाबाकीचे शाब्दिक उदाहरण तयार करून सोडवा.

- add.

4. Subtraction

Revision

- (1) There are 452 teak trees and 321 neem trees in a forest. How many more neem trees must be planted in order to have the same number of neem trees as teak trees?

$$\begin{array}{r} 452 \\ - 321 \\ \hline 131 \end{array}$$

In order to find the answer, we have to count ahead from 321 to 452.
In other words, we have to subtract 321 from 452.
131 more neem trees have to be planted.

- (2) Ajay has collected 207 seeds while Vijay has collected 165 seeds. How many more seeds does Ajay have than Vijay ?

We can find the answer by doing the following subtraction: $207 - 165$.

T	H	U
1	10	
2	0	7
- 1	6	5
0	4	2

Let us subtract 5 units from 7 units. 2 remain.

We cannot subtract 6 tens from 0 tens. However, we have 2 hundreds of which we can borrow 1.

1 hundred remains in the hundreds place.

1 hundred is equal to 10 tens. Write them in the tens place. Subtracting 6 tens from 10 tens, 4 tens remain.

Now, subtract 1 hundred from 1 hundred, 0 remain.

The answer is 42.

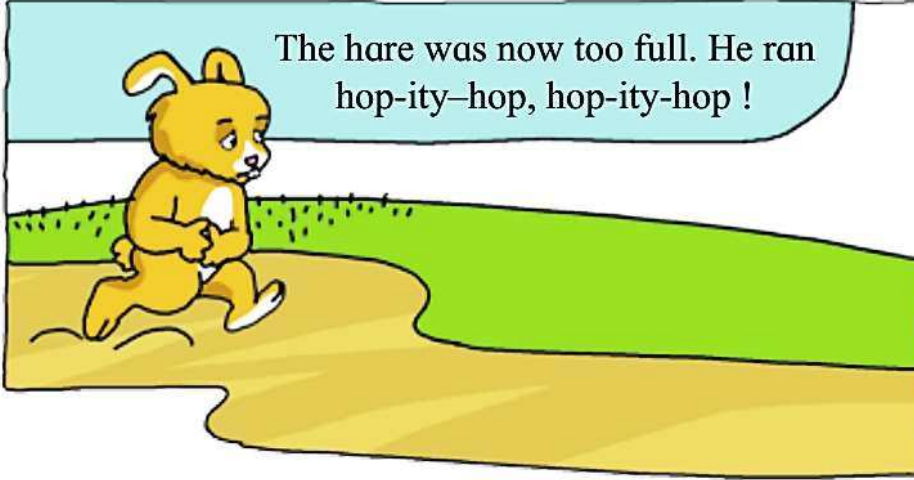
Ajay has 42 more seeds than Vijay.

Exercise

- Arrange vertically and subtract.
 - $586 - 425$
 - $465 - 179$
 - $542 - 351$
 - $754 - 287$
 - $500 - 365$
 - $502 - 307$
- If $400 - 100 = 300$, solve $477 - 177$. Write three subtraction problems with the answer 200.
- Rajani buys a uniform worth ₹372 and a school bag worth ₹250. How much more does she spend on the uniform than on the bag ?
- The answer to an addition is 915. One of the numbers is 427. Which is the other number ?
- The answer to an addition is 915. Choose any number smaller than 800 as one of the numbers. Find the other number.
- Using the numbers 534 and 252, write a subtraction word problem and solve it.

Listen and understand.

Revision



He was feeling very sleepy.

I'll take a little nap.




He slept under a tree.




He slept on and on ...

All this while, the tortoise didn't stop. He walked on and on.




The tortoise reached the mango tree.



The hare woke up. He ran to the mango tree.



What did the hare see?



या कथेचे नाट्यीकरण करून वर्गात ते सादर करण्याची संधी मुलांना द्यावी.

पाठ वाचा व स्वाध्याय सोडवा.

सरल

४. पिण्याचे पाणी

टेस्ट
सोडवा

(उ) चूक की बरोबर सांगा.

- (१) तुरटीची पूड पाण्यात विरघळत नाही.
- (२) पाण्यात सूक्ष्मजीव जगू शकत नाहीत.
- (३) गढूळ पाणी स्थिर राहिल्यास गाळ तळाशी जमतो.
- (४) खोडरबर पाण्यात तरंगते.
- (५) चहा गाळून त्यातील चोथा वेगळा करता येतो.

(ऊ) पाणी 'पारदर्शक' होते म्हणजे काय होते ?

○○○ ————— उपक्रम ————— ○○○

- सकाळी शाळेत आल्या आल्या एका मोठ्या भांड्यात गढूळ पाणी घ्या.
- त्यातील बरीचशी माती तळाशी जमा झाली, की वरचे पाणी दोन काचेच्या भांड्यांमध्ये ओतून घ्या. भांड्यांवर क्र. १ व क्र. २ अशा चिठ्ठ्या चिकटवा.
- क्र. १ च्या भांड्यातील पाण्यात तुरटीचा खडा फिरवा.
- आता दर ३० मिनिटांनी दोनही भांड्यांतील पाण्याचे निरीक्षण करा.
- कोणते पाणी लवकर स्वच्छ दिसू लागते ? किती वेळात ?
- दुसऱ्या भांड्यातील पाणी तेवढेच स्वच्छ होण्यास किती वेळ लागतो ?

५. शिवरायांचे शिक्षण

टैम्ट
सोडवा

वाचा व समजून घ्या.

सराव

पुण्याचा कायापालट : जिजाऊ आणि शिवराय पुण्याला आले. शिवरायांना बालपणचे दिवस आठवले. बालपणी शिवनेरीच्या मातीत ते खेळले होते. सह्याद्रीची उंचउंच शिखरे त्यांना पुन्हा दिसली. त्यांना खूपखूप आनंद झाला. त्या वेळचे पुणे आजच्याइतके मोठे नव्हते. शहाजीराजांच्या शत्रूंनी हे टुमदार गाव उजाड करून टाकले होते. गावातील मालमत्तेची नासधूस झाली होती. घरे मोडली होती, देवळे पडली होती. शत्रूच्या भीतीने लोक गाव सोडून पळून गेले होते. शेते ओसाड झाली होती. जंगले वाढली होती. रानात लांडगे माजले होते. अशी पुण्याची दैन्यावस्था झाली होती.

जिजाबाई शिवरायांसह पुण्यात राहू लागल्या, हे आसपासच्या गावांतील लोकांना समजले, तेव्हा लोकांना मोठा धीर आला. जिजाबाईंनी त्यांना जवळ बोलावून दिलासा दिला. लोक पुण्याला येऊन राहू लागले. शेतावर जाऊ लागले. जिजाबाईंनी पडकी देवळे दुरुस्त करून घेतली. देवळांत सकाळ-संध्याकाळ पूजा होऊ लागली. गाव लोकांनी गजबजू लागले. त्यामुळे पुण्याचे रूप पालटले.

दादाजी कोंडदेवांची कामगिरी : जिजाऊ व शिवराय कर्नाटकात असताना इकडे पुणे जहागिरीची व्यवस्था दादाजी कोंडदेव पाहत होते. ते कोंढाण्याचे सुभेदारही होते. ते मोठे इमानी सेवक होते. कारभारात चोख होते, तसेच ते न्यायी होते. त्यांची शिस्त कडक होती. ते निष्ठावंत होते. या काळात शहाजीराजांच्या आदेशाने पुण्यात एक मोठा वाडा बांधण्यात आला. त्याचे नाव लाल महाल. शेतकऱ्यांनी शेतांत लागवड करावी, म्हणून दादाजींनी त्यांना

काही वर्षे शेतसाऱ्याची सूट दिली. त्यामुळे शेते लागवडीस आली. माजलेले लांडगे शेतकऱ्यांना त्रास देत, म्हणून लांडगे मारण्यासाठी त्यांनी बक्षिसे लावली. त्यामुळे बरेच लांडगे मारले गेले. चोरांचा सुळसुळाट झाला होता. दादाजींनी शेतकऱ्यांची पथके उभारली व त्यांचा पहारा बसवला. चोरांचा बंदोबस्त केला. जमिनीची प्रतवारी ठरवून तिच्यावर सारा आकारला. त्यामुळे लोकांना आनंद झाला. दादाजी कोंडदेव आणि निजामशाहीचा वजीर मलिक अंबर यांचे कार्य शेती सुधारणा आणि सारावसुली या क्षेत्रांत मोलाचे व पायाभूत मानले जाते.

शिवरायांचे शिक्षण : शिवराय पुणे जहागिरीत आले, तरी जिजाबाईंच्या देखरेखीखाली त्यांचे शिक्षण चालूच राहिले. बंगळूरहून येताना शहाजीराजांनी सोबत दिलेल्या नामवंत शिक्षकांनी शिवरायांना अनेक शास्त्रे, विद्या व भाषा शिकवल्या.

उत्तम राज्यकारभार कसा करावा, शत्रूशी युद्ध कसे करावे, किल्ले कसे बांधावे, घोडे व हत्ती यांची परीक्षा कशी करावी, शत्रूच्या दुर्गम प्रदेशातून निसटून कसे जावे इत्यादी अनेक विद्या शिवरायांना अवगत झाल्या. शिवरायांची शिक्षणातील ही प्रगती पाहून जिजाऊंना मोठा आनंद झाला.

वीरमाता जिजाबाईंची शिवरायांस शिकवण : जिजाबाई ही काही सामान्य स्त्री नव्हती. ती लखुजीराव जाधवांसारख्या बलाढ्य सरदाराची कन्या आणि शहाजीराजांसारख्या पराक्रमी पुरुषाची पत्नी होती. राजकारणाचे व युद्धनीतीचे बाळकडू जिजाबाईंना

माझा ऑनलाईन अभ्यास

स्वयंमूल्यमापन चाचणी पहा खालील लिंकवर..

पहिली	दुसरी	तिसरी	चौथी	पाचवी	सहावी	सातवी
क्लिक करा	क्लिक करा	क्लिक करा	क्लिक करा	क्लिक करा	क्लिक करा	क्लिक करा

माझा ऑनलाईन अभ्यास - प्रत्येक घटकाच्या टेस्ट सोडवा खालील लिंकवरून

चौथी मराठी	चौथी गणित	सेमी गणित	चौथी इंग्रजी	चौथी प.अ-1	चौथी प.अ-2
क्लिक करा	क्लिक करा	क्लिक करा	क्लिक करा	क्लिक करा	क्लिक करा

दररोजच्या माझा अभ्यास pdf तुम्हाला खालील लिंकवर मिळतील.

पहिली	दुसरी	तिसरी	चौथी	पाचवी	सहावी	सातवी
क्लिक करा	क्लिक करा	क्लिक करा	क्लिक करा	क्लिक करा	क्लिक करा	क्लिक करा

इतर इयत्तांच्या ऑनलाईन टेस्ट सोडवा खालील लिंकवरून..

पहिली	दुसरी	तिसरी	चौथी	पाचवी	सहावी	सातवी
क्लिक करा	क्लिक करा	क्लिक करा	क्लिक करा	क्लिक करा	क्लिक करा	क्लिक करा

MiniShala शैक्षणिक ॲप्स खालील लिंकवरून डाऊनलोड करा.

पहिली	दुसरी	तिसरी	चौथी	पाचवी	सहावी	सातवी
		आठवी	नववी	दहावी		

गुरुमाऊली शैक्षणिक ॲप्स - [Click Here](#)

निर्मिती - श्री.प्रविण डाकरे, श्री.जयदिप डाकरे

वेब स्रोत-'ई-बालभारती'

सौजन्य- जिल्हा परिषद कोल्हापूर

<https://www.gurumauli.in>