



श्री.जयदिप डाकरे सर



श्री.प्रविण डाकरे सर

Subscribe

इयत्ता - चौथी (29 डिसेंबर) विषय - मराठी

Subscribe

- वाचा. समजून घ्या. कंसातील विरामचिन्हे योग्य ठिकाणी वापरून उतारा पुन्हा लिहा.
(, . ! ? “ ”)

गांधीजींचे मित्र एकदा त्यांना भेटायला आले दोघांनी गप्पागोष्टी केल्या गांधीजींचे लक्ष मित्राच्या धोतराकडे गेले ते मित्राला म्हणाले अरे इतका श्रीमंत झालास पण तुझे धोतर फाटकेच मित्र म्हणाला अरे भाई श्रीमंतालाही काही अडचणी असतात गांधीजी म्हणाले फाटके धोतर नेसण्याइतकी काय अडचण आली मित्र म्हणाला नोकर काम करत नाहीत हे ऐकून गांधीजींनी लगेच त्याचे धोतर शिवून दिले हे पाहून तो श्रीमंत गृहस्थ गांधीजींना काय सांगायचे आहे ते समजून गेला.

सूचनेनुसार कृती कर.

ऑनलाईन टेस्ट



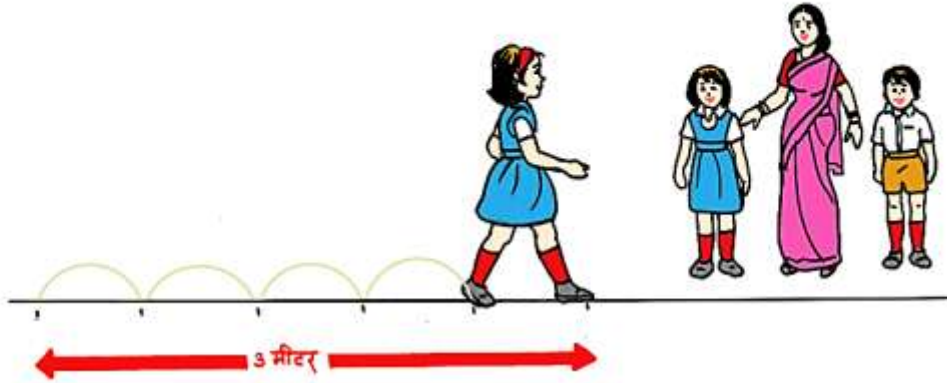
११. मापन

◆ करून पाहा.

- ❖ तुमच्याजवळ असलेल्या पेन्सिलची लांबी किती असेल याचा अंदाज करा. पट्टीने मोजून अंदाज किती बरोबर आहे, हे पाहा.
- ❖ कागदावर दोन ठिपके काढा व त्यांतील अंतर मोजा व लिहा.

दोन ठिकाणांमधील अंतर अंदाजे मोजणे

- ताई : आपण टेबलाची लांबी पट्टीच्या साहाय्यानं मोजली. प्रवेशद्वाराच्या दोन खांबांतील अंतर टेपच्या साहाय्यानं मोजलं. आता जरा लांब अंतर कसं मोजायचं ते पाहू.
- दिलीप : आपल्या शाळेच्या प्रवेशद्वारापासून आपल्या वर्गापर्यंतचं अंतर मोजूया का ?
- मीरा : टेपनं मोजणं जरा अवघड आहे.
- ताई : प्रवेशद्वारापासून ज्या मार्गानं चालून तुम्ही वर्गाशी येता, त्या मार्गाची लांबी मोजता येईल.
- दिलीप : एवढी मोठी टेप कुठून आणणार ?
- ताई : पण तुम्ही ते अंतर पायी चालता ना ?
- दिलीप : त्याचा काय उपयोग ?



- ताई : मीरा, तू या रेषेपासून ५ पावलं चालत जा आणि दिलीप मग ते अंतर तू टेपनं मोज.
- दिलीप : हे अंतर ३ मीटर आहे.
- ताई : मीरा, तू आता शाळेच्या प्रवेशद्वारापासून वर्गापर्यंत चालत ये. किती पावलं तू चाललीस ते सांग.
- मीरा : वर्गापर्यंत ९५ पावलं झाली.
- ताई : ९५ ला ५ नं भागलं तर १९ हा भागाकार आला, म्हणून ९५ पावलांत ५ पावलांचे १९ टप्पे होतील. ५ पावलांचा एक टप्पा म्हणजे ३ मीटर, म्हणून १९ टप्पे म्हणजे $१९ \times ३ = ५७$ मीटर.
- विवेक : म्हणजे प्रवेशद्वारापासून वर्गापर्यंतचं अंदाजे अंतर ५७ मीटर आहे.
- ताई : आता याच पद्धतीनं तुम्ही तुमच्या घरापासून जिथे चालत जाता ते मित्राचं घर, जवळचं दुकान, बाग अशा ठिकाणांचं घरापासूनचं अंतर मोजू शकता.



11. Measurement

◆ **Try this.**

- ✦ Guess the length of the pencil you have. Measure it with a ruler and see if your guess was right.
- ✦ Draw two dots on a piece of paper and measure the distance between them.

Guessing the distance between two places

Tai : We measured the length of the table with a ruler and the distance between two gateposts with a measuring tape. Now let us see how to measure a longer distance.

Dilip : Shall we measure the distance between the school gate and our classroom?

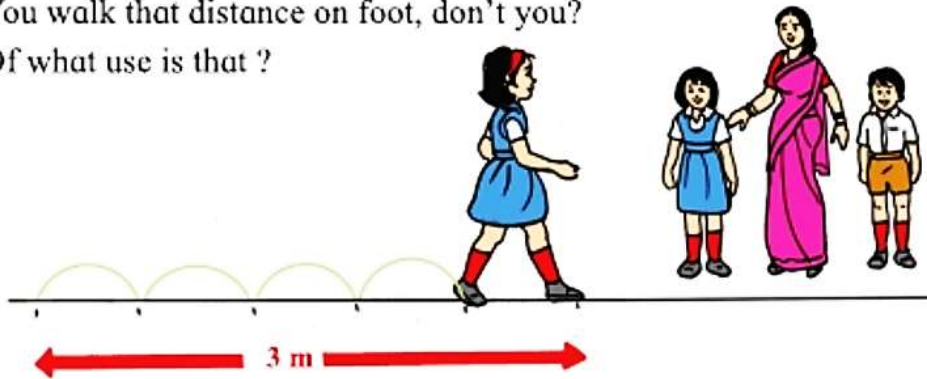
Meera : It will be a little difficult to measure with the tape.

Tai : We can measure the length of the path that you walk from the gate to the classroom.

Dilip : Where will we find such a long tape?

Tai : You walk that distance on foot, don't you?

Dilip : Of what use is that ?



Tai : Come, Meera. Walk 5 steps along this line. Now, Dilip, you measure the distance with the tape.

Dilip : The distance is 3 metres.

Tai : Meera, now walk from the school gate to the classroom. Tell us how many steps you take.

Meera : I took 95 steps till the classroom.

Tai : When we divide 95 by 5, the answer is 19. This means that 95 steps have 19 stages of 5 steps each. One stage of 5 steps is equal to 3 metres. Therefore, 19 stages make $19 \times 3 = 57$ metres.

Vivek : That means the distance from the gate to the classroom is about 57 metres.

Tai : You can use this method to measure the distance between your house and other places that you walk to, such as a friend's house, a shop or a garden nearby.

Read and understand.

Minding
the
Class

Listen, learn and enact.



ऐका, शिका आणि सादर करा.

revision



वर्गात शांत बसायला
सांगण्यासाठी नेहमी
लागणाऱ्या काही सूचना
येथे दिल्या आहेत. त्यांचा
पुरेसा सराव झाल्यानंतर या
संपूर्ण भागाचा एखाद्या
नाट्यछटेसारखाही वापर
करता येईल.

Please keep quiet. Listen to me.

Silence, silence, please. No talking. Sssh!

Listen! No noise, please. Keep quiet, everyone.

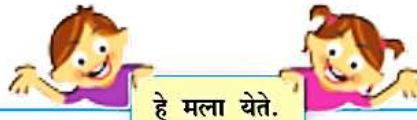
And I mean everyone. Silence in the classroom.

Vineeta! Stop talking. Stop talking at once.

Who's that talking in the corner? Who's talking at the back?

Pay attention, everybody. Look here. Be quiet. Good.

Now look at me and listen very very carefully.



हे मला येते.

- छोट्या इंग्रजी कविता व सुवचने सहज लक्षात ठेवता येतात व सादर करता येतात.
- सोपे स्पेलिंग असणारे, अर्थपूर्ण असे खूप इंग्रजी शब्द स्वतःच्या मनाने सांगता येतात, लिहिता येतात.
- दिलेले शब्द वापरून अर्थपूर्ण इंग्रजी वाक्ये तयार करता येतात. लिहिता येतात.
- स्वतःचे विचार/भावना सांगण्यासाठी १-२ इंग्रजी वाक्यांचा उपयोग करता येतो.
- परिचित विषयाबाबत सोप्या इंग्रजीतून दिलेली माहिती समजते.
- इंग्रजी संवादांत, नाट्यछटेत भाग घेता येतो.
- फोनवरील संवादांत इंग्रजी शब्दांचा/वाक्यांचा योग्य वापर करता येतो.
- नेहमीच्या वापरात येणारे इंग्रजी शब्द नोंदवून लक्षात ठेवता येतात.
- नाटक, कथा, माहिती यांतील काही इंग्रजी शब्दांचे अर्थ लावण्याचा प्रयत्न करता येतो.

read and understand.



सांगा पाहू

- या चित्रांमध्ये तुम्हांला काय दिसते ?
- या चित्रांतील छोटी मुले मोठ्या माणसांकडून काय शिकत आहेत ?

लहानाचे मोठे होताना आपण अनेक छोट्या-मोठ्या गोष्टी शिकत जातो. त्यांतून आपल्या सवयी घडत जातात. आपल्या आवडीनिवडी ठरत जातात. हळूहळू आपले विचार पक्के होऊ लागतात. यालाच आपली 'जडणघडण होणे' असे म्हणतात.

तुम्ही तुमचे लहानपणचे फोटो बघितले असतील. तुम्ही रांगायला लागलात. चालायला शिकलात. बोलायला शिकलात. दात कसे घासायचे ? अंघोळ कशी करायची ? न सांडता कसे जेवायचे ? मोठ्या माणसांशी कसे वागायचे ? यांसारख्या साध्या-साध्या गोष्टींपासून कितीतरी गोष्टी तुम्ही शिकलात. शाळेचे दफ्तर कसे भरायचे ? सायकल कशी चालवायची ? मोबाइलवरचा खेळ कसा खेळायचा ? गाई-गुरांना चारा कधी द्यायचा ? दुकानातून वाणसामान कसे आणायचे ? अनोळखी लोकांशी कसे वागायचे ? अशी खूप मोठी यादी आपल्याला करता येईल.

या सगळ्या गोष्टी तुम्ही कशा शिकलात ? या गोष्टी तुम्हांला कोणी शिकवल्या ?

या घटकावरची टेस्ट -

ऑनलाईन टेस्ट



वाचा व समजून घ्या. मागील घटकावर टेस्ट -

ऑनलाईन टेस्ट



१४. गड आला, पण सिंह गेला

सराव करा.

स्वाध्याय

१. अचूक पर्यायाचे वर्तुळ रंगवा.

(अ) तानाजी हा कोकणातील या गावचा राहणार होता.

(१) महाड ○ (२) चिपळूण ○

(३) उमरठे ○ (४) रत्नागिरी ○

(आ) जयसिंगाने नेमलेला उद्देभान या किल्ल्याचा किल्लेदार होता.

(१) पुरंदर ○ (२) कोंढाणा ○

(३) रायगड ○ (४) प्रतापगड ○

(इ) तानाजीच्या भावाचे नाव हे होते.

(१) रायबा ○ (२) सूर्याजी ○

(३) मुरारबाजी ○ (४) फिरंगोजी ○

२. प्रत्येकी एका वाक्यात उत्तरे लिहा.

(अ) कोंढाणा किल्ला कोणाच्या ताब्यात होता ?

(आ) कोंढाणा किल्ल्यासंबंधी जिजामाता शिवरायांना काय म्हणाल्या ?

(इ) 'आधी लग्न कोंढाप्याचे, मग रायबाचे' असे कोण म्हणाले ?

३. दोन-तीन वाक्यांत उत्तरे लिहा.

(अ) शेलारमामाने शिवरायांना रायबाच्या लग्नाचे आमंत्रण दिले, त्या वेळी शिवराय काय म्हणाले ?

(आ) सिंहगडावर सूर्याजी मावळ्यांना काय म्हणाला ?

उपक्रम

तुमच्या परिसरातील ऐतिहासिक वास्तूंची यादी करा.



स्वाध्याय सोडवा . या पाठावरील नवीन टेस्ट सोडवा-

ऑनलाईन टेस्ट



इयत्ता चौथी - मराठी

महिना - नोव्हेंबर ते डिसेंबर

14. मिठाचा शोध	Click Here
15. आनंदाचं झाड	Click Here
16. झुळूक मी व्हावे	Click Here
17. म्हणींच्या गमती	Click Here
धरतीची आम्ही लेकरं mp3	Click Here
या भारतात बंधुभाव mp3	Click Here
धूळपेरणी mp3	Click Here
नाखवादादा mp3	Click Here
चवदार तळ्याचे पाणी mp3	Click Here
झुळूक मी व्हावे mp3	Click Here
हें कोण गे आई mp3	Click Here
आभाळमाया mp3	Click Here
मन्हा खान्देस्नी माटी mp3	Click Here

इयत्ता चौथी - गणित

महिना - नोव्हेंबर ते डिसेंबर

शाब्दिक उदाहरणे-बेरीज	Click Here
शाब्दिक उदाहरणे-वजाबाकी	Click Here
शाब्दिक उदाहरणे-मिश्र उदाहरणे	Click Here
अपूर्णांक -1	Click Here
अपूर्णांक -2	Click Here new
मापन -1	Click Here new

इयत्ता चौथी - परिसर अभ्यास - 1

महिना - नोव्हेंबर ते डिसेंबर

14 नकाशा आणि खुणा	Click Here
15. माझा जिल्हा माझे राज्य	Click Here <i>new</i>
16. दिवस व रात्र	Click Here <i>new</i>
17. माझी जडणघडण	Click Here <i>new</i>
इयत्ता चौथी - परिसर अभ्यास - 2	
महिना - नोव्हेंबर ते डिसेंबर	
12. पुरंदरचा वेढा व तह	Click Here
13. बादशाहाच्या हातावर तुरी दिल्या	Click Here
14. गड आला पण सिंह गेला	Click Here

