



श्री.जयदिप डाकरे सर




श्री.प्रविण डाकरे सर

Subscribe

इयत्ता - चौथी (25 डिसेंबर) विषय - मराठी

Subscribe

आम्ही कथा लिहितो - २



सराव



शिक्षकांसाठी : विद्यार्थ्यांना प्रत्येक चित्राचे निरीक्षण करायला सांगावे. प्रत्येक चित्रात काय काय दिसते ते क्रमाक्रमाने विचारावे. सर्व चित्रांच्या मदतीने गोष्ट सांगण्यास विद्यार्थ्यांना प्रोत्साहन द्यावे.



* चित्रे पाहा. कोणती घटना घडली असेल, याची कल्पना करून ती गोष्ट वर्गात सांगा. सगळ्यांत शेवटी काय झाले असेल त्याचे चित्र वहीत काढा. गोष्टीला नाव द्या.

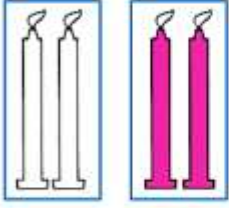
गोष्ट वहीत लिही.

ऑनलाईन टेस्ट ↓

१०. अपूर्णांक

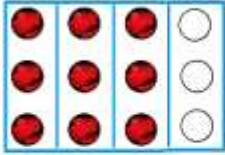
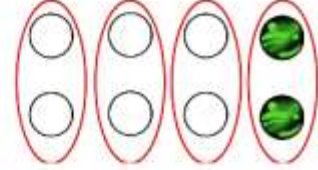
समूहाच्या संदर्भातील अपूर्णांक

सर्राव



◆ शेजारच्या चित्रात चार मेणबत्त्यांचा समूह आहे. त्याचे २ समान भाग करून त्यांपैकी १ भाग रंगवला आहे, म्हणजे $\frac{१}{२}$ भाग रंगवला आहे. यावरून ४ चा $\frac{१}{२}$ म्हणजे २.

◆ येथे ८ गोठ्यांच्या समूह आहे. त्याचे ४ समान भाग केले. त्यांतील १ भाग रंगवला, म्हणजे $\frac{१}{४}$ भाग रंगवला, म्हणून ८ चा $\frac{१}{४}$ म्हणजे २.



◆ येथे १२ चेंडूंचा समूह आहे. त्याचे ४ समान भाग केले. त्यांतील ३ भाग रंगवले, म्हणजे $\frac{३}{४}$ भाग रंगवला, म्हणून १२ चा $\frac{३}{४}$ म्हणजे ९.

◆ येथे ६ पेन्सिलींचा समूह आहे. त्याचे ६ समान भाग केले. प्रत्येक भागात एकच पेन्सिल आहे. त्यांतील ५ भाग रंगवले. यावरून ६ चा $\frac{५}{६}$ म्हणजे ५.



स्वाध्याय

दिलेल्या समूहाच्या दिलेल्या अपूर्णांकाएवढ्या भागाभोवती गोल करा.

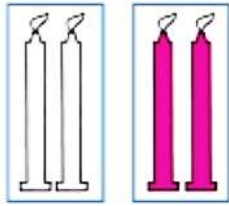
अपूर्णांक	समूह
$\frac{१}{२}$	
$\frac{२}{३}$	
$\frac{३}{४}$	
$\frac{२}{४}$	
$\frac{१}{५}$	
$\frac{३}{५}$	



10. Fractions

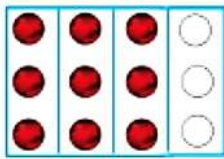
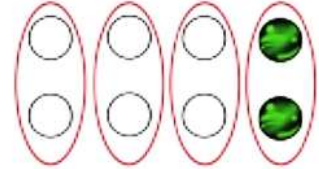
Fractions related to sets

revision




◆ In this picture, there is a set of four candles. It has been divided into two equal parts and 1 part has been coloured. That is $\frac{1}{2}$ a part has been coloured. $\frac{1}{2}$ of 4 is 2.

◆ This is a set of 8 marbles. It has been divided into 4 equal parts. One of the parts is coloured. That is, a $\frac{1}{4}$ part has been coloured. This means $\frac{1}{4}$ of 8 is 2.



◆ This is a set of 12 balls which has been divided into 4 equal parts. Three parts are coloured. It means that a $\frac{3}{4}$ part is coloured. $\frac{3}{4}$ of 12 is 9.

◆ This is a set of 6 pencils which has been divided into 6 equal parts. Each part has only one pencil. 5 parts are shaded showing that $\frac{5}{6}$ of 6 is 5.




Exercise

Circle a portion of the set equal to the given fraction.

Fraction	Set
$\frac{1}{2}$	
$\frac{2}{3}$	
$\frac{3}{4}$	
$\frac{2}{4}$	
$\frac{1}{5}$	
$\frac{3}{5}$	

Read and understand.



Sheru : My sheep! My sheep!
 Oh, no! I'm sorry!
 I'm so very sorry!
 I'll never cry 'Wolf!' for fun again!

Chorus : Sheru has learnt his lesson.
 He'll never cry 'Wolf!' for fun again.

* * *



2. **Guess the meaning of the following words.**

खालील शब्दांचे अर्थ अंदाजाने सांगा.

* blooming * tricked * fooled * learnt his lesson



3. **Answer the following questions orally.**

- * What does Sheru do every day? (Take the sheep,)
- * Why does Sheru not sing songs? (Because he doesn't like)
- * Why does Sheru not play the flute?
- * Why does Sheru not read a book?
- * What did Sheru want?
- * What did Sheru say at the end?



4. **Enact the play.**

read and understand.

१६. दिवस आणि रात्र

सराव

दिवसाचे चोवीस तास असतात. पण रोजच्या रोज बारा तासांचा दिवस आणि बारा तासांची रात्र असते का ?

तसे असते तर रोज सकाळी सहा वाजता सूर्य उगवला असता आणि सायंकाळी सहा वाजता सूर्य मावळला असता.

प्रत्यक्षात काय होते, ते आपण पाहू.

○○○ ————— ○○○



करून पहा

काही दिनदर्शिकांमध्ये सूर्योदयाची आणि सूर्यास्ताची वेळ लिहिलेली असते. अशी यंदाची दिनदर्शिका घ्या. दिनदर्शिकेचा वापर करून पुढील दोन कोष्टके पूर्ण करा.

कोष्टक क्र.१	दिनांक	४	८	१२	१६	२०	२४	२८
	सूर्योदय							
मे महिना	सूर्यास्त							

कोष्टक क्र.२	दिनांक	४	८	१२	१६	२०	२४	२८
	सूर्योदय							
नोव्हेंबर महिना	सूर्यास्त							

तुम्हांला काय आढळून येईल ?

- नोव्हेंबर महिन्यात सूर्योदय उशिरा होत जातो, तर सूर्यास्त लवकर होत जातो.
- मे महिन्यात सूर्योदय लवकर होत जातो, तर सूर्यास्त उशिरा होत जातो.

यावरून काय उलगडते ?

- नोव्हेंबर महिन्यात दिवस लहान लहान होत जातो आणि रात्र मोठी मोठी होत जाते.
- मे महिन्यात दिवस मोठा मोठा होत जातो आणि रात्र लहान लहान होत जाते.

आता आपली खात्री झाली, की दररोज दिवस बारा तासांचा आणि रात्र बारा तासांची असे नसते.

○○○ ————— ○○○



माहीत आहे का तुम्हांला

- संपूर्ण वर्षात २२ मार्च आणि २२ सप्टेंबर या दोनच तारखा अशा आहेत, की त्या तारखांना १२ तासांचा दिवस आणि १२ तासांची रात्र असते.

वाचा व समजून घ्या. मागील घटकावर टेस्ट -

ऑनलाईन टेस्ट



१४. गड आला, पण सिंह गेला

स्वाध्याय

१. अचूक पर्यायाचे वर्तुळ रंगवा.

(अ) तानाजी हा कोकणातील या गावचा राहाणार होता.

(१) महाड ○ (२) चिपळूण ○

(३) उमरठे ○ (४) रत्नागिरी ○

(आ) जयसिंगाने नेमलेला उदेभान या किल्ल्याचा किल्लेदार होता.

(१) पुरंदर ○ (२) कोंढाणा ○

(३) रायगड ○ (४) प्रतापगड ○

(इ) तानाजीच्या भावाचे नाव हे होते.

(१) रायबा ○ (२) सूर्याजी ○

(३) मुरारबाजी ○ (४) फिरंगोजी ○

२. प्रत्येकी एका वाक्यात उत्तरे लिहा.

(अ) कोंढाणा किल्ला कोणाच्या ताब्यात होता ?

(आ) कोंढाणा किल्ल्यासंबंधी जिजामाता शिवरायांना काय म्हणाल्या ?

(इ) 'आधी लग्न कोंढाण्याचे, मग रायबाचे' असे कोण म्हणाले ?

३. दोन-तीन वाक्यांत उत्तरे लिहा.

(अ) शेलारमामाने शिवरायांना रायबाच्या लग्नाचे आमंत्रण दिले, त्या वेळी शिवराय काय म्हणाले ?

(आ) सिंहगडावर सूर्याजी मावळ्यांना काय म्हणाला ?

उपक्रम

तुमच्या परिसरातील ऐतिहासिक वास्तूंची यादी करा.



स्वाध्याय सोडवा . या पाठावरील नवीन टेस्ट सोडवा-

ऑनलाईन टेस्ट



इयत्ता चौथी - मराठी

महिना - नोव्हेंबर ते डिसेंबर

14. मिठाचा शोध	Click Here
15. आनंदाचं झाड	Click Here
16. झुळूक मी व्हावे	Click Here
17. म्हणींच्या गमती	Click Here
धरतीची आम्ही लेकरं mp3	Click Here
या भारतात बंधुभाव mp3	Click Here
धूळपेरणी mp3	Click Here
नाखवादादा mp3	Click Here
चवदार तव्याचे पाणी mp3	Click Here
झुळूक मी व्हावे mp3	Click Here
हें कोण गे आई mp3	Click Here
आभाळमाया mp3	Click Here
मन्हा खान्देस्नी माटी mp3	Click Here

इयत्ता चौथी - गणित

महिना - नोव्हेंबर ते डिसेंबर

शाब्दिक उदाहरणे-बेरीज	Click Here
शाब्दिक उदाहरणे-वजाबाकी	Click Here
शाब्दिक उदाहरणे-मिश्र उदाहरणे	Click Here
अपूर्णांक	Click Here
मापन	लवकरच

इयत्ता चौथी - परिसर अभ्यास - 1

महिना - नोव्हेंबर ते डिसेंबर

14 नकाशा आणि खुणा	Click Here
15. माझा जिल्हा माझे राज्य	Click Here <i>new</i>
16. दिवस व रात्र	लवकरच
17. माझी जडणघडण	लवकरच
इयत्ता चौथी - परिसर अभ्यास - 2 महिना - नोव्हेंबर ते डिसेंबर	
12. पुरंदरचा वेढा व तह	Click Here
13. बादशाहाच्या हातावर तुरी दिल्या	Click Here
14. गड आला पण सिंह गेला	Click Here



निर्मिती - श्री.प्रविण डाकरे, श्री.जयदिप डाकरे

वेब स्रोत- 'ई-बालभारती'

सौजन्य- जिल्हा परिषद कोल्हापूर

<https://www.gurumauli.in>