



श्री. जयदिप डाकरे सर



श्री. प्रविण डाकरे सर

Subscribe

इयता - दुसरी (2 डिसेंबर) विषय - मराठी

Subscribe

१६. चुलीवरची खीर

• ऐकूया. गाऊया.

चुलीवरची खीर एकदा पुरीला हसली
कढईतली पुरी मग गुरफटून बसली
काही केल्या खुलेना, जरा सुद्धा फुलेना
झान्यानं टोचलं, ते ही तिला बोचलं
अशी थट्टा पुरीच्या काळजाला डसली

पुरी झाली लाल, तिचे फुगले गाल
मन आले भरू, डोळे लागले झरू
तिथून उठून तरातरा ताटात जाऊन बसली

खीर थंड झाली वाटीत बसून आली
लाडे लाडे खीर मग पुरीजवळ गेली
“पुरीताई पुरीताई बघ जरा इकडे
माझे म्हणणे ऐक गडे” ... पण अं हं...
चार शब्द ऐकेल तर पुरी ती कसली

तिकडून ताई आली, तिने युक्ती केली
खिरीची नि पुरीची खूप गट्टी झाली
तेव्हापासून त्यांची जोडी पक्की होऊन बसली
कढईतील पुरी मग कध्धी नाही रुसली

- निर्मला देशपांडे



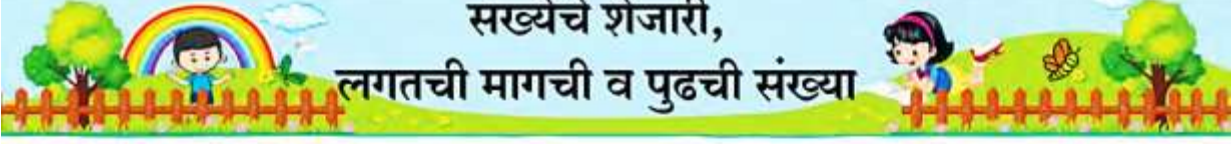
Audio ऐका



कविता तालामुरात म्हणा..

ऑनलाईन टेस्ट






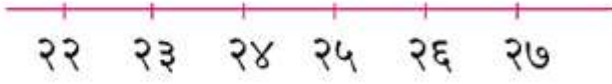
संख्येचे शेजारी, लगतची मागची व पुढची संख्या

संख्यारेषा अशी असते.

एका रेषेवर डाव्या बाजूला शून्य या संख्येची खूण असते. तेथून सोईचे लहान अंतर घेऊन, एकापुढे एक मोजून, सारख्या अंतरांवर १, २, ३, ४, ... अशा संख्या लिहिलेल्या असतात.



या रेषेचा कोणताही भाग पाहा. या रेषेवरील कोणतीही एक, समजा, २३ ही संख्या घेतली.



लगतची मागची \leftarrow \rightarrow लगतची पुढची.

काय लक्षात येते ?

कोणत्याही संख्येच्या डावीकडची म्हणजेच लगतची मागची संख्या १ ने कमी आहे तर उजवीकडची म्हणजेच लगतची पुढची संख्या १ ने जास्त आहे.

रिकाम्या चौकटीत लगतची मागची व लगतची पुढची संख्या लिही.

<input type="text"/>	५४	<input type="text"/>	<input type="text"/>	७९	<input type="text"/>	<input type="text"/>	४०	<input type="text"/>
<input type="text"/>	३७	<input type="text"/>	<input type="text"/>	६२	<input type="text"/>	<input type="text"/>	९९	<input type="text"/>
<input type="text"/>	५०	<input type="text"/>	<input type="text"/>	७८	<input type="text"/>	<input type="text"/>	३२	<input type="text"/>
<input type="text"/>	३९	<input type="text"/>	<input type="text"/>	३०	<input type="text"/>	<input type="text"/>	६८	<input type="text"/>



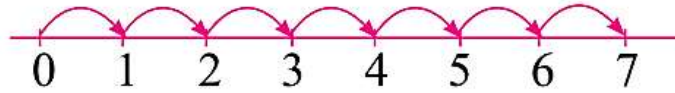
HZ98L8

वाचा व सराव करा.

ऑनलाईन टेस्ट



Here is how we get a number line. A mark is made for the number zero at the left side of a line. From there counting forward towards the right, the numbers 1, 2, 3, 4, are marked, at equal distances.



Look at any part of this line. Let us take any number on this line, say 23.



The number before is ← → is the number after.

What do we see ?

For any number, the neighbour on the left is one less and the neighbour on the right is one more!

In the empty boxes, write the number that comes immediately before and the one that comes immediately after.

54

79

40

37

62

99

50

78

32

39

30

68



understand and practice.

3.3 Let's Speak

a. Listen, repeat and enact.



At the stationery shop

Ahmed : *Kaka*, I want a set of crayons. Do you have it?

Shopkeeper : Yes, I do.

Ahmed : How many colours are there in a set?

Shopkeeper : Twelve.

Ahmed : How much does it cost?

Shopkeeper : Twenty rupees.

Ahmed : Please give me one set.

Shopkeeper : Here it is.

Ahmed : Thank you.

Here is your money.

Shopkeeper : Thank you. Visit again.



Read and understand.

इयत्ता - दुसरी विषय - खेळ करू शिकू

१.२ कुंडीतील लागवड

विविध कुंड्यांचा परिचय



मातीची कुंडी



लाकडी कुंडी



प्लास्टिक कुंडी



सिमेंटची कुंडी



चिनी मातीची कुंडी



धातूची कुंडी

इयत्ता दुसरी - मराठी	महिना - नोव्हेंबर ते डिसेंबर
चित्रवाचन	Click Here
चुलीवरची खीर	Click Here
दिनदर्शिका	Click Here
हिवाळा	Click Here
संगणकाची करामत	Click Here
देवा तुझे किती Mp3	Click Here
देवा तुझे किती Video	Click Here
देवा तुझे किती Video	Click Here
देवा तुझे किती Karaoke Video	Click Here
डिंगोरी Mp3	Click Here
डिंगोरी Video	Click Here
डिंगोरी Karaoke Video	Click Here
फुलपाखरु Mp3	Click Here
फुलपाखरु Video	Click Here
फुलपाखरु Karaoke Video	Click Here
हळूच या हो हळूच या Mp3	Click Here
हळूच या हो हळूच या Video	Click Here
हळूच या हो हळूच Karaoke Video	Click Here
एक तांबडा भोपळा Mp3	Click Here
एक तांबडा भोपळा Video	Click Here

एक तांबडा भोपळा Karaoke	Click Here
चुलीवरची खीर Mp3	Click Here
हिवळा Mp3	Click Here
इयत्ता दुसरी - गणित	महिना - नोव्हेंबर ते डिसेंबर
संख्यांचा लहान-मोठेपणा	Click Here
लगतची मागची व पुढची संख्या	Click Here
संख्यांचा चढता व उतरता क्रम	Click Here
चला, संख्या तयार करूया	Click Here
संख्यावाचक, क्रमवाचक शब्द	Click Here
मिळवू चित्रातून माहिती	Click Here
खास बेरीज, हातच्याची	Click Here



Subscribe

निर्मिती - श्री.प्रविण डाकरे, श्री.जयदिप डाकरे

वेब स्रोत- 'ई-बालभारती'

सौजन्य- जिल्हा परिषद कोल्हापूर

<https://www.gurumauli.in>